

[滿分 0 分]

一、單題

1. ( ) 日俄戰爭爆發後，戰爭結果引發知識分子熱切討論。當時除了口耳相傳以外，還有什麼傳播媒體是一般民眾迅速獲得新知的方式？

(A)看電視 (B)看網路新聞 (C)讀報紙 (D)滑手機。

答案：(C)

解析：清末時，報刊往往能提供即時報導。

2. ( ) 清帝國與日本簽訂《馬關條約》後，丘逢甲不禁悲嘆：「宰相有權能割地，孤臣無力可回天。」詩中的「割地」指的是何者？

(A)琉球 (B)越南 (C)臺灣、澎湖 (D)山東。

答案：(C)

解析：《馬關條約》割讓臺灣、澎湖給日本。

3. ( ) 歷史課時，同學們針對清代的政策來討論，附圖為其情況。同學們討論的問題應該為何？



(A)懷柔措施 (B)科舉制度 (C)文字獄 (D)薙髮留辮。

答案：(C)

解析：(C)由「明月、清風、濁清」可知。

4. ( ) 考試成績出爐，阿威興奮的又叫又跳，阿威靠著優異的成績得以進入□就讀，阿威的爺爺開心的說：「我孫子可是進了以前的京師大學堂讀書呀！」阿威應該是錄取哪間學校了？

(A)臺灣大學 (B)臺北大學 (C)中央大學 (D)北京大學。

答案：(D)

解析：京師大學堂是今北京大學的前身。

5. ( ) 清末時中國人口約 4.5 億，當時除了肥沃的水田以外，山坡地、旱地都被開發拿來種耐旱的作物，這些作物從美洲傳入，舒緩明代中期以來糧食不足的問題。上述的作物不包括下列何者？

(A)芋頭 (B)玉米 (C)番薯 (D)馬鈴薯。

答案：(A)

解析：(B)(C)(D)皆為美洲作物。

6. ( ) 甲午戰爭後，愈來愈多以西學救國的知識分子強調新國民的培育，因此當時的讀書人寫了以下的詩句刊登在雜誌上：「皇帝子孫神明胃，緣何干為奴隸死，乘此風潮好進行，大家勉造國民母。」下列何者不屬於當時新知識分子的主張？

(A)要求女子遵守三從四德 (B)鼓吹不纏足運動 (C)鼓勵女子接受新式教育 (D)鼓勵女子就業。

答案：(A)

解析：欲以西學救國的新知識分子，加入提倡女權的行列。

7. ( ) 清末，瑩如與父親在上海生活，瑩如父親自詡為思想開放的新知識分子。下列何者不是瑩如父親的日常生活？

(A)送瑩如去教會開辦的女子學校 (B)強迫瑩如嫁給朋友兒子 (C)堅決反對瑩如奶奶將瑩如纏小腳 (D)帶瑩如到租界的洋餐廳用餐。

答案：(B)

解析：清末，新知識分子開始重視女權，提倡女子不纏足、女子受新式教育，也不再提倡「父母之命」的婚姻。

8. ( ) 隨著傳教士與商人不斷前往東方貿易的過程中，對東方國家造成一定程度上的衝擊，像是日本為了杜絕葡萄牙人在國內的影響力，最後選擇鎖國，但日本的鎖國並不是全方位禁止，而是有限度的容許部分國家依然可以前往日本貿易。部分國家指的是下列何者？

(A)印度 (B)英國 (C)荷蘭 (D)西班牙。

答案：(C)

解析：日本鎖國後，准許荷蘭與中國商人前往長崎貿易。

9. ( ) 在中國歷史上，有一位開國皇帝，他終結了蒙古人所建立的王朝，定都今日的江蘇南京。上述這位皇帝為下列何者？

(A)漢武帝 (B)唐太宗 (C)宋太祖 (D)明太祖。

答案：(D)

解析：(D)由終結蒙古人所建的王朝、定都南京可知統治。

10. ( ) 漢武帝為了解西域的情勢，派何人出使西域，使漢朝與西域各國開始相通，揭開經營西域的序幕？

(A)商鞅 (B)玄奘 (C)張騫 (D)文成公主。

答案：(C)

解析：漢武帝為聯絡西域各國抵制匈奴，派遣張騫出使西域。

11. ( ) 小惠在倉庫發現了一本現代重新印刷的古籍，內容記錄著活字印刷術、石油、磁偏角等等。上述書籍最早有可能是在何時出版？

(A)漢代 (B)隋代 (C)唐代 (D)北宋。

答案：(D)

解析：活字印刷術為北宋畢昇發明。

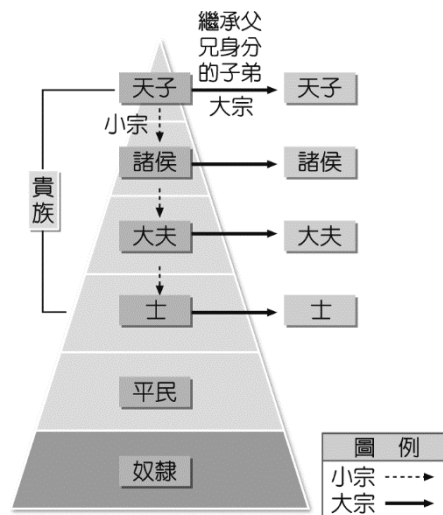
12. ( ) 逸仙看電視時，聽不懂民意代表以閩南語、客家語表達的意見，好在能從螢幕上的文字了解他們的發言內容。這種以文字彌補語言紛歧的障礙，與哪一位歷史人物的措施相似？

(A)商鞅 (B)張騫 (C)秦始皇 (D)漢武帝。

答案：(C)

解析：秦始皇統一文字。

13. ( ) 老師在講解何謂宗法血緣的時候，畫了附圖和同學解釋。老師最有可能上到中國史的哪個朝代？




(A)周代 (B)秦代 (C)漢代 (D)唐代。

答案：(A)

解析：西周社會可分為貴族、平民、奴隸，多數狀況下，各級貴族以繼承父兄身分的子弟為大宗，其餘為小宗。

14. ( ) 附圖是關於日本歷史上「黑船事件」的一幅漫畫。下列敘述何者與此事件有關？

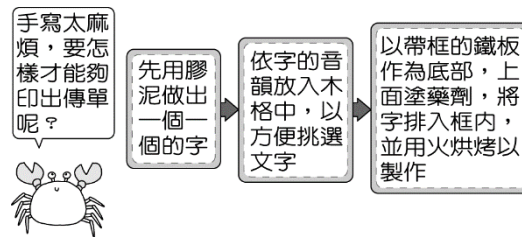


(A)日本最後僅允許長崎一口通商 (B)黑船隸屬英國 (C)日本被迫開港通商 (D)隔年日本明治維新。

答案：(C)

解析：(A)僅開放長崎通商是在日本鎖國時期(B)該船隻隸屬美國(D)黑船事件發生於 1853 年，明治維新發生在 1868 年。

15. ( ) 家佳在歷史博物館展櫃中看到「活字印刷術」的介紹(如附圖)，請問：這項技術應該是在哪一時期出現？



(A)南北朝 (B)隋唐 (C)北宋 (D)明清。

答案：(C)

解析：北宋畢昇發明活字印刷術。

16. ( ) 西元 17 世紀後，隨著歐洲人前來亞洲貿易，美洲的白銀被歐洲人用來買中國的絲綢、瓷器，白銀因而大量湧入中國，造成中國貨幣經濟的重大變化。直到下列何事發生之後，白銀大量流出中國？

(A)鄭和下西洋後 (B)鴉片大量進入中國後 (C)新航路發現後 (D)清廷收復臺灣後。

答案：(B)

解析：西元 17 世紀後，西方諸國以由南美掠取的大量白銀黃金換取中國絲綢瓷器，而在 18 世紀中期以後，西方國家則積極發展工商業，用鴉片貿易及侵略的方式，讓白銀大量流出中國。

17. ( ) 有學者批評，西方 18 世紀掀起中國熱只是一味追求形制上的相似，並未認真探討其內容與蘊含的意義，導致一堆四不像的作品充斥在建築、繪畫之中。這些中國風的元素不包括下列何者？

(A)青花瓷器 (B)儒家經典 (C)園林建築 (D)聖母像。

答案：(D)

解析：(D)是天主教的畫像，和中國元素無關。

18. ( ) 有一首詩寫著：「煙槍即銃槍，自打自受傷，多少英雄漢，困死在高床。」反映了清代當時的哪一社會面貌？

(A)俄國的進逼 (B)鴉片的毒害 (C)械鬥的死傷 (D)租界的不公。

答案：(B)

解析：晚清時期，中國吸食鴉片者日多，對國民健康產生威脅，且因白銀外流，對國家經濟造成不利影響。

19. ( ) 老師評論某個時代知識分子的表現時提到：「這一時期的士人透過科舉制度進仕途，朝中多由文人擔任官職，形成重文輕武的政治風格。他們除了參與國政，也負責主持國防和領軍，但由於缺乏軍事經驗，作戰能力降低，對外戰爭勝少敗多。」此一朝代最可能是由下列何人所建？

(A)秦始皇嬴政 (B)唐太宗李世民 (C)宋太祖趙匡胤 (D)元世祖忽必烈。

答案：(C)

解析：宋太祖趙匡胤建立北宋，偏重文人政治，縮減武將權力，由文人指揮軍隊，造成自身

軍事實力貧弱，難以應付強敵環伺的局面。

20. ( ) 小明和家人利用暑假期間，到中國旅行，順便參觀歷史課本上所提及的古蹟，實踐「讀萬卷書，不如行萬里路」之說。他們來到「天下第一關」山海關，領隊先生介紹明代有位將領曾經「衝冠一怒為紅顏」，開山海關引清兵入關。此將領為下列何者？

(A)施琅 (B)吳三桂 (C)李自成 (D)玄奘。

答案：(B)

解析：清兵在吳三桂協助下入關。

21. ( ) 中國的文字、曆法、儒學與佛教，都為立國於朝鮮半島的新羅所全力模仿，此事發生在哪一時期？

(A)秦代 (B)漢代 (C)唐代 (D)隋代。

答案：(C)

解析：朝鮮半島的新羅國全力模仿唐朝中國文化。

22. ( ) 欽明玩一款以北宋末年為背景的線上格鬥遊戲，附圖為結束北宋的兩位人物。圖中的「金太宗」應是屬於下列哪一外族？



(A)女真 (B)契丹 (C)蒙古 (D)匈奴。

答案：(A)

解析：金在滅遼後揮兵南下，攻陷汴京，擄走皇帝，史稱「靖康之禍」，北宋滅亡。

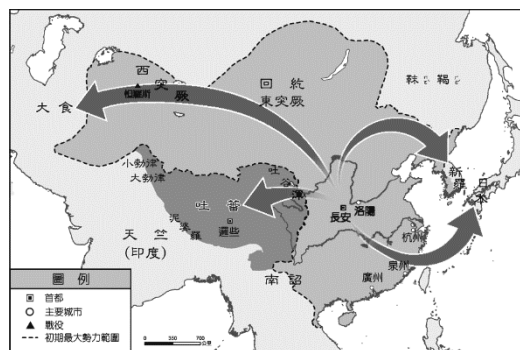
23. ( ) 小昭在《中國歷史故事》看到宋太祖「陳橋兵變」後建立宋朝的故事。「陳橋兵變」的典故，出自於何人篡奪政權成功？

(A)嬴政 (B)忽必烈 (C)鐵木真 (D)趙匡胤。

答案：(D)

解析：(D)由「宋太祖」、「建立宋朝」可知。

24. ( ) 嘉禾在《中國歷史地圖集》中看到附圖，若根據圖中箭頭的方向來看，此圖的標題應該為何？



(A)西漢張騫出使西域圖 (B)秦國兼併各國示意圖 (C)佛教傳入中國示意圖 (D)唐文化向外傳播示意圖。

答案：(D)

解析：唐朝文化向外傳播至日本、朝鮮、大食、吐蕃。(A)張騫出使西域圖應只至中亞

(B)秦國統一只在中國疆域內(C)佛教傳入中國為由外往中國傳遞。

25. ( ) 明太祖朱元璋明確規定安南、占城、高麗、暹羅、琉球、蘇門答臘、爪哇、湓亨、白花、三弗齊、渤泥以及其他西洋、南洋等國為「不征之國」。他並且確定了「厚往薄來」的朝貢原則。在這個體制中，各朝貢國承認中國為天朝上國，獲得中國的支持或保護。上述所講的制度，在何事之後更擴大範圍與規模？

(A)鄭和出使西洋 (B)清帝國攻克臺灣 (C)殲滅倭寇 (D)支持發展海商集團。



答案：(A)

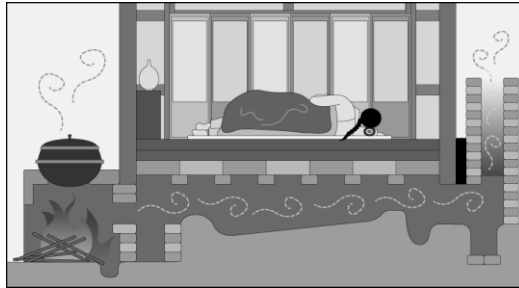
解析：鄭和出使西洋擴大了朝貢貿易國家的範圍。

大甲國中 八年級地理補考題 \_\_\_\_年\_\_班 座號：\_\_\_\_ 姓名：\_\_\_\_\_

[滿分 0 分]

### 單題

1. ( ) 朝鮮半島傳統的風俗習慣和當地環境息息相關，多為因應其自然條件而發展出獨特生活方式。附圖為當地常見的傳統房屋設備，其主要目的為下列何者？



(A)躲避強風 (B)儲存蔬果 (C)避寒取暖 (D)驅逐溼氣。

答案：(C)

解析：圖為朝鮮半島當地常見的溫突設施，主要為導引爐灶的暖氣使得地板增溫。

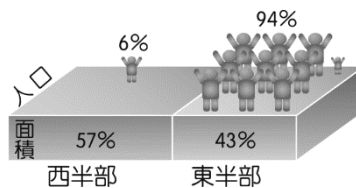
2. ( ) 富士山被日本人視為聖山，山形高大，為完整壯觀的火山地形。請問：該國多火山的主要原因為何？

(A)位板塊接觸帶 (B)緯度低氣溫高 (C)沿海暖流經過 (D)島嶼面積狹長。

答案：(A)

解析：日本位於板塊接觸帶地區，多火山、地震。

3. ( ) 王老師在教授中國地理時，在黑板上畫出如附圖的示意圖。請問：此時王老師所要講解的內容應為下列何者？



(A)中國人口總數世界第一 (B)中國人口分布不均 (C)中國一胎化政策對人口的影響 (D)中國扶養問題相當嚴重。

答案：(B)

解析：此圖主要呈現出人口的分布不均，東半部面積占 43%，卻聚集了 94% 的人口，因此形成東半部人口密集、西半部人口稀疏的特色。

4. ( ) 中國政府在 2015 年推動「一帶一路」的政策，希望能和鄰國間的往來更加密切。附圖為中國一帶一路路線圖，其中「二十一世紀海上絲綢之路」的規畫，串連好幾個洲，但不包括下列哪一洲？



(A)亞洲 (B)美洲 (C)非洲 (D)歐洲。

答案：(B)

解析：海路串連東南亞經南亞、非洲到達歐洲。

5. ( ) 根據附圖 RCEP 簽署國家分布圖，這些國家主要在哪一大洲？



(A)美洲 (B)歐洲 (C)亞洲 (D)非洲。

答案：(C)

解析：(C) RCEP 簽署國家如中國、日本、東南亞等國家主要分布在亞洲。

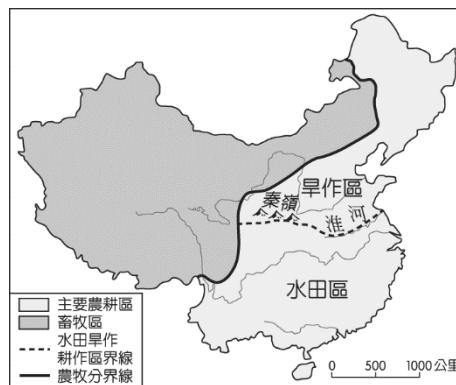
6. ( ) 近 30 年來，中國人口自然增加率不斷的下降，造成這種現象的主要原因為何？

(A)死亡率增加 (B)出生率下降 (C)移出率增加 (D)移入率減少。

答案：(B)

解析：中國因實施一胎化政策，出生率大幅下降，造成人口自然增加率快速降低。

7. ( ) 中國以農立國，然而受到自然環境的影響，形成附圖中的作物分布狀況。請問：其中造成水田、旱田等分布差異的主要影響因素為何？



(A)地勢高低 (B)降水量多寡 (C)港口位置 (D)盛行風向。

答案：(B)

解析：兩地主要影響因素為北部少雨且冬溫低，南部氣候暖溼。

8. ( ) 中國近年來正積極推動「西部大開發」政策，希望加速西部地區的經濟發展，減少區域發展不均的問題。目前中國西部地區經濟發展最不利的條件為下列何者？

(A)面積狹小 (B)缺乏原料 (C)交通不便 (D)缺乏鄰國。

答案：(C)

解析：西部地區對外交通不便，工商業發展較緩慢，因此中國政府提出「西部大開發」政策。

9. ( ) 南韓總統任期 5 年，不得連任，因此 2022 年 3 月舉行總統大選，候選人對北韓態度往往成為左右勝負的關鍵。存在朝鮮半島的兩個國家有許多不同的地方，下列提及南、北韓的敘述何者正確？

	地形	位置	農業	政治體制
北韓	以平原為主	38°N 以北	一年二穫	民主
南韓	以高原為主	38°N 以南	一年一穫	共產

(A)地形 (B)位置 (C)農業 (D)政治體制。

答案：(B)

解析：北韓因位於 38°N 以北、氣候嚴寒，少平地不利耕作，僅能一年一穫。

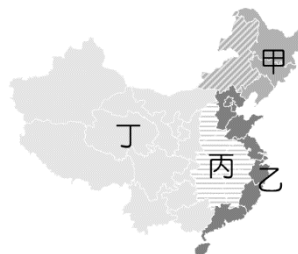
10. ( ) 中國南北兩端的緯度約跨 35 度，因此形成不同類型的季風氣候區。請問：在中國的季風氣候中，不包括下列何種類型？

(A)熱帶季風 (B)副熱帶季風 (C)溫帶季風 (D)寒帶季風。

答案：(D)

解析：中國東半部的季風氣候，依緯度由低而高，可區分為熱帶季風氣候、副熱帶季風氣候、溫帶季風氣候。

11. ( ) 中國的工業活動發展至今剛好半個世紀，由於經濟改革開放的政策影響，整體經濟發展的速度相當快，國內生產毛額已成為世界第二大的國家，僅次於美國。請問：其發展過程中，附圖中哪一個區域最先發展，經濟最發達？



(A)甲 (B)乙 (C)丙 (D)丁。

答案：(B)

解析：中國經濟改革開放以東部沿海的經濟特區開始，進而帶動其他區域發展。

12. ( ) 中國農業活動的主要分布地區如附圖所示。其主要的氣候類型為下列何者？



(A)草原氣候 (B)季風氣候 (C)高地氣候 (D)沙漠氣候。

答案：(B)

解析：(B)季風氣候區的降水量較為豐富，因此成為主要農業活動的分布區。

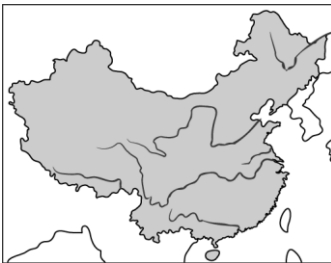
13. ( ) 香港為世界重要的金融及交通轉運中心，繁華的都市夜景十分炫麗，因此又有「東方之珠」的稱號。請問：香港目前的行政區畫分種類屬於下列何者？

(A)省 (B)自治區 (C)特別行政區 (D)經濟特區。

答案：(C)

解析：中國目前設有香港及澳門兩個特別行政區。

14. ( ) 附圖為中國境內主要河川的流向，受到地勢高低的因素影響，其流向主要為何？



(A)由東向西流 (B)由西向東流 (C)由南向北流 (D)由北向南流。

答案：(B)

解析：中國地勢西高東低，因此河川流向多由西向東流入海洋。

15. ( ) 中國境內畫分為「省」的行政區當中，哪一個省四面環海，特色為「以島立省」？

(A)河南省 (B)海南省 (C)山東省 (D)廣東省。

答案：(B)

解析：位於海南島的是海南省。

16. ( ) 朝鮮半島以北緯 38° 為界分成南、北韓。下列有關兩韓的地理環境比較，何者與緯度高低的關係最小？

(A)北韓的生長季較短 (B)南韓的糧食生產較多 (C)南韓的氣溫較高 (D)北韓的礦產較豐富。

答案：(D)

解析：(D)與地質有關。

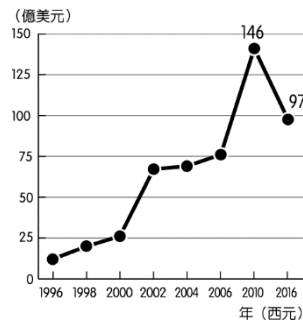
17. ( ) 一國國土疆域面積的大小直接影響該國人民自然資源的多寡。目前世界上國土面積最大的國家為下列何者？

(A)澳洲 (B)中國 (C)俄羅斯 (D)美國。

答案：(C)

解析：(C)俄羅斯面積約 1,710 萬平方公里，是世界面積最大國家。

18. ( ) 附圖為臺商對中國投資金額統計圖，顯示 2010 年開始，臺商投資中國產業的金額逐年下降中。請問：該現象主要受到中國哪一因素影響？



(A)礦藏資源枯竭 (B)基本工資上漲 (C)服務業興起 (D)代工廠技術不良。

答案：(B)

解析：中國實施「勞動合同法」將提高廠商的勞力成本，因此轉移到工資低廉的越南。

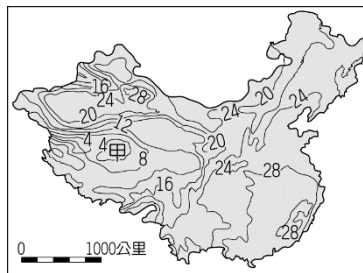
19. ( ) 1970 年代末期，中國自從實施某政策後，各省工業總產值都超過農業產值，並由沿海經濟發展帶動到其它地區。上述政策應為下列何者？

(A)一胎化政策 (B)土地改革政策 (C)經濟改革開放政策 (D)教育改革政策。

答案：(C)

解析：中國因經濟改革開放政策，各省工業總產值都超過農業總產值。

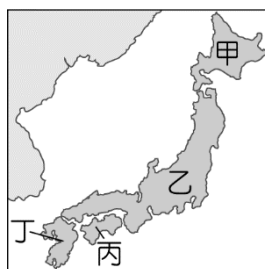
20. ( ) 附圖為中國夏季氣溫分布圖。請問：造成甲地區低溫現象的主要原因為何？〔93.第二次基測〕



(A)緯度高 (B)季風強 (C)地勢高 (D)距海遠。

答案：(C)

21. ( ) 附圖為日本群島簡圖，日本最大的平原位於圖中哪一個島上？



(A)甲 (B)乙 (C)丙 (D)丁。

答案：(B)

解析：最大平原為關東平原，位於本州島上。



22. ( ) 根據附圖，兩國之間使用此種交通方式的特性，下列何者正確？



(A)短途運輸 (B)運費較貴 (C)長途運輸 (D)時間較短。

答案：(C)

解析：(C)由中歐班列火車(鐵路)判斷是長途運輸。

23. ( ) 中國境內的氣候類型多屬於溫帶氣候區，這與下列哪一項因素的關係較為密切？

(A)位東半球 (B)面積廣大 (C)位中緯度 (D)地形起伏。

答案：(C)

解析：中國大部分國土位於中緯度，以氣候溫和的溫帶氣候區為主。

24. ( ) 中國將政治或經濟上具有重大影響力的地區設置「直轄市」。請問：下列四個中國直轄市中，何者身兼首都的重要地位？

(A)上海市 (B)北京市 (C)重慶市 (D)天津市。

答案：(B)

解析：中國的政治中心為北京市。

25. ( ) 中國的地形複雜，從分層設色圖上來看，東半部大多是哪一種顏色？

(A)綠色 (B)淺黃色 (C)深黃色 (D)咖啡色。

答案：(A)

解析：中國東半部大多是平原，以綠色表示平原地形。

大甲國中 八年級公民段考題 \_\_\_\_年\_\_班 座號：\_\_\_\_ 姓名：\_\_\_\_\_

[滿分 0 分]

### 單題

1. ( ) 附圖為珊珍一家人於群組中談論政府施政，對話內容顯示的意涵與下列何者最接近？



我有加入總統帳號，能夠即時了解政府制定政策時的方向和立場。



如果政府部門施政不合理，我會到他們的官網留言建議。



上次參加老屋改建公聽會，我充分表達意見，要求政府必須保障我的權益。

(A)政府權力僅集中在少數人手中  
(B)民眾可透過管道討論公共政策  
(C)政府各層級官員專業能力不足  
(D)政府施政已不受民意監督。

答案：(B)

解析：由對話內容可知民眾利用社群網路和公聽會參與政府制定公共政策的過程。

2. ( ) 我國中央與地方的分權方式是依據事務的性質畫分權限，凡事務有因地制宜之性質者，屬於地方權限。下列何者屬於地方政府的權限？

(A)颱風來襲是否放假 (B)申請加入聯合國 (C)與他國進行邦交 (D)進

行軍隊的編制。

答案：(A)

解析：是否放颱風假屬於因地制宜之性質的事務。

3. ( ) 《憲法》具有下列哪些特性？(甲)原則性(乙)固定性(丙)浮動性(丁)最高性  
(A)甲乙丙 (B)甲乙丁 (C)乙丙丁 (D)甲丙丁。

答案：(B)

解析：《憲法》規定的內容多半為重要且具有原則性的事項，變動不宜太過頻繁，效力最高。

4. ( ) 依據《地方制度法》規定，下列哪一個地方自治機關的層級與臺南市政府相同？

(A)屏東市 (B)馬公市 (C)新北市 (D)基隆市。

答案：(C)

解析：(A)(B)縣轄市(D)與縣同級的市。

5. ( ) 附圖為某候選人的宣傳海報，務農 40 年的朱艾維在充分了解內容之後，決定把票投給他。下列何者是朱艾維投票給候選人的原因？

### 農民全勝利、農民大福利

1. 提高稻穀保證收購價格
2. 提高老農津貼為每月6000元
3. 100億農企業與設施專案低利貸款基金



(A)候選人所屬的政黨 (B)候選人的政見 (C)候選人的素質 (D)候選人的學歷。

答案：(B)

解析：由圖中內容可知，朱艾維是因為認同候選人的政見而投票給該候選人。

6. ( ) 「釣魚臺列嶼」位於東海，在臺灣的東北方，距基隆約102哩。自聯合國亞洲遠東經濟委員會報告釣魚臺列嶼附近可能蘊藏豐富的石油後，中華民國、日本、中國三方對於其歸屬爭論不休。「釣魚臺列嶼」引發衝突的原因，牽涉到哪些國家組成要素？

(A)領土、主權 (B)政府、主權  
(C)人民、領土 (D)人民、政府。

答案：(A)

解析：中華民國、日本、中國都對外宣稱釣魚臺列嶼是其領土以及主權擁有國。

7. ( ) 附圖為一名外國留學生在課堂上的分享，根據內容判斷，下列敘述何者較符合該國現況？

在我的國家，統治者的意思就是法律，他對民眾進行嚴格管制，禁止任何對領導人或政府的批評。

薇妮

(A)政府施政以人民意見為依歸  
(B)法律可以限制統治者的權力  
(C)人民權利受到法律完整保障  
(D)法律規定隨著統治者而改變。

答案：(D)

解析：屬人治社會，統治者凌駕於法律之上。

8. ( ) 阿威在部落格上分析孫中山先生的「五權分立」理論，下列敘述何者正確？  
(A)將司法權從監察權中獨立出來，可避免政黨衝突 (B)將考試權從行政權中獨立出來，可避免濫用私人 (C)將立法權從監察權中獨立出來，可杜絕國會專制 (D)超出黨派的立法權更顯重要。

答案：(B)

解析：(A)無此設計(C)應是將監察權從立法權中獨立出來(D)應是司法權。

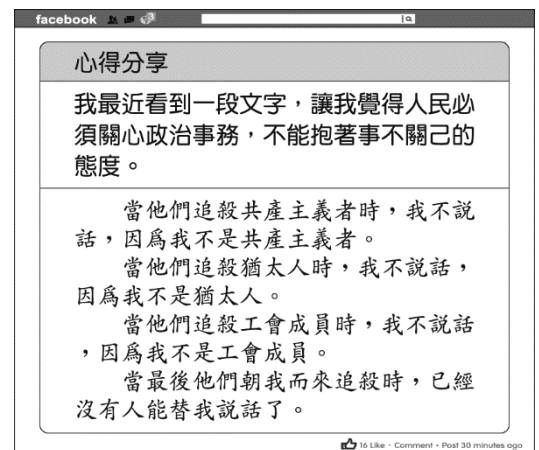
9. ( ) 關於政黨輪替的意義，下列分析何者正確？

(A)對在野黨而言，造成各黨間無法和平共存 (B)對執政黨而言，施政必須對人民負責 (C)對人民而言，將促使專制政權延續 (D)對國家發展而言，有助於軍事力量的成長。

答案：(B)

解析：(A)目的在提醒各黨應以民意為依歸(C)在民主國家，可使失去民心的政權下臺(D)並無相關。

10. ( ) 亞燦十分關心時事，也常和朋友談論各種政治議題，附圖中他分享的內容，應是表達何種概念的重要性？



(A)政府執政不應受到人民干涉  
(B)人民應提升政治參與的意願  
(C)人民投入政治活動會不利於國家統治 (D)政府應掌控國家最高權力。

答案：(B)

解析：亞燦由分享的該段文字體會到對公共事務冷漠所帶來的嚴重後果，因此認為人民應提升政治參與的意願。

11. ( ) 依照我國的分權方式，下列何者屬於「因地制宜」之性質的事項？

(A)參加國際組織，大幅開拓臺灣的外交空間 (B)執行路平專案，重新鋪設柏油路面 (C)和美國洽談戰機和潛艦等相關軍購案 (D)發生災害後，國軍整編前進災區。

答案：(B)

解析：外交、國防事務屬於中央權限。

12. ( ) 附圖為一位民意代表進行直播節目時所做的回答，民眾提出的問題最可能聚焦在下列何事？



(A)總統職權行使 (B)政黨監督功能  
(C)權力分立體制 (D)司法獨立審判。

答案：(C)

解析：五權分立為我國依權力分立原則而獨創的中央體制。

13. ( ) 鴻禎瀏覽到一篇文章如附圖，根據內容判斷，下列說明何者最符合文中所述的概念？

人臉辨識系統可透過比對影片中的人臉，結合現有的個人資訊，以確定身分。我國為法治國家，人民權利受到《憲法》保障，即使警政單位基於職務，但若無端使用這套系統蒐集民眾資料，恐有侵害隱私權的疑慮。

(A)經常修正《憲法》，才能對人權的保障與時俱進 (B)《憲法》並無提及隱私權，故無法提供人民保障 (C)警政單位為維護秩序，執法時不受《憲法》約束 (D)《憲法》是人民權利保障書，防止政府權力的侵害。

答案：(D)

解析：隱私權屬於人民基本權利，亦包含在《憲法》保障範圍之內。

14. ( ) 內政部營建署配合雲林縣口湖鄉地方創生計畫「臺灣鯛科技漁民」、補助縣政府經費推動「城鎮之心人文景觀再造」計畫，讓槿梧村以「手繪感鐵花窗」成為網路爆紅打卡景點。從上述內容可看出中央政府在與地方政府的合作中，給予下列何種協助？

(A)全面主導 (B)挹注資源 (C)制定完善法律 (D)培養優秀人才。

答案：(B)

解析：內政部補助縣政府經費，故選(B)。

15. ( ) 民主政治中，政府的運作須考量民意，下列何者的施政顯示不受民意監督？

(A)甲國：人民不須參與政治，我的任期已經改成無限期續任，讓我更能專注於國政 (B)乙國：對於國內爆發的緊急事件，我必須向人民表達歉意，有愧大家對我的託付 (C)丙國：所有政策

都需要民眾支持，若有任何意見，請直接反應到專責的政府部門 (D)丁國：執政黨面臨此次選舉挫敗，顯示我們做得不夠好，我們將更努力贏得民心。

答案：(A)

解析：(B)(C)(D)都可看出政府的施政受民意的監督。

16. ( ) 中國與南海周遭國家所產生的「南海爭議」，在於南海周遭國家均宣稱自己擁有該海域附近島嶼與相關天然資源的控制權及使用權，但卻不被其他國家所承認，因此彼此間衝突不斷。上述應為國家哪一項組成要素的爭議？

(A)主權 (B)人民 (C)國籍 (D)政府。

答案：(A)

解析：各國否認其他國家對於該海域的權力，此為主權的爭議。

17. ( ) 下列關於民主政治的特色，何者敘述正確？

(A)人民可以經由選舉選擇某個政黨執政，並藉由政黨力量來監督政府施政 (B)在民主國家，行政機關可對違法者做出任何制裁，不受法律的約束 (C)政府權力的行使不須向人民負責，面臨民意代表或人民的責難時應堅持到底 (D)人民有守法的義務，而政府可因施政需要而違法，這才是法治政治。

答案：(A)

解析：(B)行政機關須依法行政，不可違法濫權 (C)政府權力的行使應向人民負責，並受法律的約束 (D)不論人民或是政府，都必須遵守法律的規定。

18. ( ) 我國的中央政府中，下列哪一機關依法要對立法院負責，必須提出施政方針與施政報告，並接受立法委員的質詢？

(A)監察院 (B)行政院 (C)司法院 (D)總統。

答案：(B)

解析：由「依法對立法院負責並接受質詢」，可知是行政院。

19. ( ) 下列關於「政府」的敘述，何者正確？

(A)為國家的統治機關 (B)為了達成政策目標，可不受法律約束 (C)掌握國家最高的統治權力，可以完全管束人民 (D)政府的更替將影響國家在國際上享有的權利和地位。

答案：(A)

解析：(B)須受法律約束 (C)國家統治



權由國民賦予(D)並無影響。

20. ( ) 公民老師在課堂上介紹完國家的組成要素之後，分別請四位同學舉例。下列哪一位同學的敘述最符合國家組成要素的意涵？

(A)胖虎：青天白日滿地紅是我國國旗的象徵意義 (B)靜香：英國現在仍保存皇室的傳統 (C)小夫：游牧民族雖無固定棲息地仍可組成國家 (D)大雄：擁有我國國籍者即為我國國民。

答案：(D)

解析：(A)國旗並非組成要素(B)皇室並非組成要素(C)游牧民族若無固定領土無法組成國家。

21. ( ) 由於資訊化時代來臨，各地方行政機關紛紛設置網頁以服務民眾，甚至還設置市民信箱，提供民眾與地方首長直接對話的管道。上述地方政府的做法，展現了民主政治的哪一項特色？

(A)法治政治 (B)責任政治 (C)民意政治 (D)政黨政治。

答案：(C)

解析：地方政府的做法，目的在鼓勵民眾反映對於公共政策的意見，以作為施政的依據。

22. ( ) 小凱參加國中同學會，發現班上許多同學和自己一樣，現在都在政府機關工作。根據下列四人的發言推斷，何人是在「行政院」任職？

(A)阿嘉：我必須準備工作報告，並向立法院提出政府的總預算 (B)大均：我主管高等、普通考試，為國家選拔人才 (C)小雅：我根據人民的陳情，調查違法失職的公務人員 (D)小凱：我負責審核每年國家預算執行情形，避免公費濫用。

答案：(A)

解析：(B)考試院的職權(C)(D)監察院的職權。

23. ( ) 下列關於「命令」的敘述，何者正確？  
(A)命令依其性質可分為法、律、條例或通則 (B)由行政機關依據法律制定 (C)其效力高於法律，低於《憲法》，故不得牴觸《憲法》 (D)命令的修正須經立法院三讀通過，並由選舉人投票複決。

答案：(B)

解析：(A)此為法律的名稱(C)低於《憲法》、法律(D)由各行政機關修正。

24. ( ) 《憲法》規定的內容多半為重要且具有

原則性的事項，較為簡潔扼要。上述說明《憲法》具有何項特性？

(A)最高性 (B)原則性 (C)固定性 (D)優越性。

答案：(B)

解析：《憲法》多半為重要且具有原則性的事項，細項則由法律或命令做具體的規範。

25. ( ) 在民主國家中，不同的政黨之間有公平競爭執政的機會，這種情形符合民主政治的哪一項特色？

(A)責任政治 (B)法治政治 (C)民意政治 (D)政黨政治。

答案：(D)

解析：民主國家的人民可自由組黨與公平競爭，是政黨政治的重要特徵。