

一、選擇-:(每題 0 分。共 0.0 分):

1. ()蘇美人是最早定居於兩河流域的民族，他們建立村落，逐漸發展出城邦，並且有許多的文化成就與發明。請問：下列哪一項並非蘇美人的文化成就？ (A)楔形文字 (B)六十進位法 (C)創立猶太教 (D)陰曆。

《答案》C

2. ()阿利安人征服印度後，信奉婆羅門教，施行種姓制度，並以下列何者作為婆羅門教的主要經典？ (A)《佛經》 (B)《吠陀經》 (C)《新約聖經》 (D)《舊約聖經》。

《答案》B

3. ()亞歷山大在征服的地區內建立希臘式城市，移植城邦體制和生活方式。下列哪一個區域不會出現這樣的城市？ (A)希臘半島 (B)黃河流域 (C)尼羅河流域 (D)兩河流域。

《答案》B

4. ()相對於希臘人的浪漫性格，羅馬人是個務實的民族，凡事腳踏實地，有計畫和組織。從下列哪一個建築可以看出羅馬人的務實性格？ (A)加爾橋引水道 (B)奧林匹亞宙斯神廟 (C)古夫金字塔 (D)萬里長城。

《答案》A

5. ()某傳記簡介：「他以真主使者的名義，傳授一部誦讀的經典，使阿拉伯人從部落走向民族和國家，把伊斯蘭教傳播到世界各地，至今仍影響億萬穆斯林的生活。」上文應該

是下列何者的傳記？ (A)穆罕默德 (B)釋迦牟尼 (C)查士丁尼 (D)希羅多德。

《答案》A

6. ()附圖是小可對自己所信仰宗教的介紹。請問：小可信仰的是哪一個宗教？ (A)佛教 (B)基督教 (C)婆羅門教 (D)伊斯蘭教。

我所信仰的宗教對近代的商業制度有極大的貢獻，學習印度數字系統，並向西方傳播，推動東西文化交流。

《答案》D

7. ()附圖是八世紀時，一個橫跨歐、亞、非三洲帝國的疆域圖，關於這個帝國的敘述，下列何者正確？ (A)此帝國為拜占庭帝國 (B)這個帝國起源於阿拉伯半島 (C)這個帝國建立希臘化文化 (D)這個帝國引發亞歷山大東征。



《答案》B

詳解：從時間、帝國疆域與首都判斷，此帝國為阿拉伯帝國。

8. ()伊斯坦堡是今日土耳其最大城市和港口，是土耳其的文化、經濟和金融中心，也是世界上唯一地跨兩個洲的大都市。請問：伊斯坦堡的舊稱為何？ (A)羅馬 (B)君士坦丁堡 (C)特洛伊 (D)亞歷山卓城。

《答案》B

9. ()彼得是位虔誠的信徒，他一生勤儉，相信人能否得救早已由上帝預先選定，自己所能做的只是努力工作，以現世成就來榮耀上帝。依此推論，他最可能是下列哪一個教派的信徒？ (A)希臘正教 (B)喀爾文教派 (C)英格蘭國教派 (D)天主教耶穌會。

《答案》B

詳解：(B)相信預選說、勤儉、以現世成就來榮耀上帝，均為喀爾文教派的理念。

10. ()大航海的時代，附圖中的哪一個國家最先勇敢出海，進行新航路的探尋與冒險？



(A)甲 (B)乙 (C)丙 (D)丁。

《答案》A

詳解：圖中甲為葡萄牙，乙為西班牙，丙為法國，丁為英格蘭。葡萄牙是第一個近代歐洲前往海外探險的國家。

11. ()西元 1492 年，哪一位航海家在西班牙王室的贊助下，尋找前往亞洲的西方航線，卻意外抵達了美洲？ (A)狄亞士 (B)麥哲倫 (C)達伽馬 (D)哥倫布。

《答案》D

12. ()十五世紀後期，哪一個國家最早從事海外探險活動，揭開大航海時代的序幕？ (A)英國 (B)荷蘭 (C)西班牙 (D)葡萄牙。

《答案》D

13. ()軒軒去年暑假曾到中美洲的墨西哥遊玩，他聽導遊講解說：「墨西哥的首都墨西哥市，有多個某古文化的遺址，這個古文化曾經在此建立輝煌的政權，不過隨著歐洲人來到美洲後，這個文化就逐漸被消滅了。」請問：根據上述內容判斷，這個美洲古文化最有可能是下列何者？ (A)馬雅文化 (B)印加文化 (C)阿茲提克文化 (D)兩河文化。

《答案》C

14. ()我們目前常吃的玉米，其實是由哪一個地區傳入的？ (A)非洲 (B)歐洲 (C)美洲 (D)亞洲。

《答案》C

15. ()科學革命期間，歐洲學者陸續發明了許多新的儀器，當時發明的新儀器不包括下列何者？ (A)溫度計 (B)望遠鏡 (C)指南針 (D)顯微鏡。

《答案》C

16. ()十六～十七世紀，科學人才輩出，研究成果豐碩，被稱為「科學革命」。請問：下列何者並非科學革命時期的科學家？ (A)哥白尼 (B)阿基米德 (C)牛頓 (D)伽利略。

《答案》B

17. ()現今許多民主國家都設有總統、國會和各級法院，三者的權力相互制衡。請問：這種體制源自何人的思想？ (A)伏爾泰 (B)盧梭 (C)洛克 (D)孟德斯鳩。

《答案》D

18. ()十九世紀初期的歐洲城市環境：「眾多的人口，匆忙的生活，使得交通擁擠，排水、廢物及汙水的處理，都是亟待解決的問題。……工人居無定所，兒童們在貧民窟流

浪，種種的壓迫誘惑著一些不安定的分子，暴力犯罪威脅大家的安全。」請問：這樣的情形與下列何者有關？ (A)宗教改革 (B)啟蒙運動 (C)海外拓殖 (D)工業革命。

《答案》D

19. ()歷史課時，同學們正在討論古代某一民族的特色。由內容判斷，同學們討論的應該是哪一個民族？



- (A)蘇美人 (B)波斯人 (C)希伯來人 (D)巴比倫人

《答案》B

20. ()一本傳記中提到：「這位領導者以卓越的智慧和強硬的手段，完成了羅馬由共和邁向帝國的轉變，並解決了羅馬共和末期的各種危機，締造了一個新的帝國時代……。」此傳記的名稱應該是何者？ (A)凱撒傳 (B)屋大維傳 (C)君士坦丁傳 (D)亞歷山大傳

《答案》B

21. ()希臘文化對今日的歐洲文化有著舉足輕重的影響，附表是有關「希臘文化」與「希臘化文化」的比較，何者正確？ (A)文學、史學 (B)哲學、科學 (C)文化重鎮 (D)統治版圖。

| 項目 | 希臘文化 | 希臘化文化 |
|------|-----------|-----------|
| 文學史學 | 荷馬史詩 | 希羅多德的《歷史》 |
| 哲學科學 | 歐幾里德、阿基米德 | 蘇格拉底等三哲人 |
| 文化重鎮 | 雅典 | 亞歷山卓 |
| 統治版圖 | 大帝國 | 小城邦林立 |

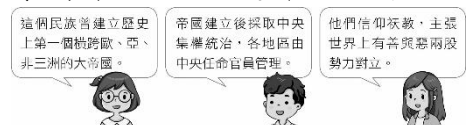
《答案》C

詳解：表格中只有「文化重鎮」此一項目正確。(A)皆為希臘文化的著作。(B)、(D)敘述剛好相反。

22. ()「衆神各個都擁有很強的欲望，有些甚至比人類的欲望還要強烈。他們行事全憑自己的愛好，隨心所欲，完全不顧慮其他神或人類的看法和喜惡憎恨，這很大程度上是基於神的長生不老以及強大的超自然力量所賦予的強烈優越感和超脫感。」以上描述，應該是哪一個地區的信仰觀念？ (A)波斯 (B)埃及 (C)蘇美 (D)希臘。

《答案》D

23. ()歷史課時，同學們正在討論古代某一民族的特色。由內容判斷，同學們討論的應該是哪一個民族？



- (A)蘇美人 (B)波斯人 (C)希伯來人 (D)巴比倫人

《答案》B

詳解：波斯人征服了西亞、埃及等地，建立橫跨歐、亞、非三洲的大帝國。波斯帝國雖採取中央集權的統治，但仍重視各地的特有文化。波斯人信奉祆教，相信世上有善與惡兩股對立勢力，善神終會戰勝惡神。

24. ()古希臘有一部著名的歷史著作，該作者為了追求真實，實地勘察許多地方，並記載人的事蹟，而非神話。這樣的精神讓他被後世稱為「歷史學之父」，請問這個人是誰？ (A)希羅多德 (B)歐幾里得 (C)阿基米德 (D)亞歷山大

《答案》A

詳解：希羅多德著有《歷史》一書，著眼於人的事蹟，被稱為「歷史學之父」。

25. ()我們日常生活中使用的0~9「阿拉伯數字」，是藉由善於經商貿易的

阿拉伯商人，透過商業活動將其傳往歐洲地區，成為現今大家普遍通用的數字系統。然而，阿拉伯人所使用的數字概念，其實是受到何地數字系統的影響？ (A)埃及 (B)印度 (C)波斯 (D)中國

《答案》B

詳解：現今我們使用的阿拉伯數字其實源於印度的數字系統，只是由阿拉伯人在經商的過程中傳播出去。

1. () 附圖為西元 2018 年歐洲(不包含俄羅斯)前五大出口作物的年出口量及占世界比例。請問：圖中顯示的農作物，最可能是以哪一個地理作為主要栽種範圍？ (A)阿爾卑斯山區 (B)北極海沿岸 (C)地中海沿岸 (D)歐洲大平原。



《答案》D

2. () 西元 2020 年，歐盟委員會主席反覆聲明：「歐洲面臨新冠肺炎疫情危機，唯一有效的解決方案就是基於合作、靈活，以及最重要的——團結。」上述聲明主要是因為歐盟各國在面對新冠肺炎疫情時，出現了下列何種現象？ (A)停用歐元 (B)關閉邊境 (C)脫離歐盟 (D)農產禁止出口。

《答案》B

3. () 下列關於《申根公約》(Schengen Agreement)的內容描述，何者正確？ (A)西元 1985 年歐洲國家在


比利時的布魯塞爾簽訂 (B)目的在取消會員國間的邊境檢查與簽證等手續 (C)規定使用共同貨幣歐元 (D)所有歐洲國家均有簽訂此公約。

《答案》B

4. () 俄羅斯是全世界面積最大的國家，領土橫跨歐、亞兩洲，境內多達 11 個時區。請問：這種現象和哪一項地理特色關係最大？ (A)東西跨距大 (B)地勢起伏太大 (C)位於高緯區 (D)南北所跨緯度大。

《答案》A

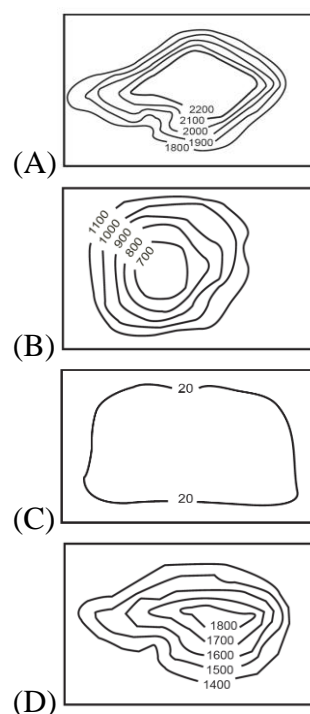
5. () 附圖為俄羅斯地形剖面圖。請問：首都莫斯科位於哪一個區域？ (A)甲 (B)乙 (C)丙 (D)丁。



《答案》A

詳解：俄羅斯首都莫斯科位於烏拉爾山以西的歐俄平原。

6. () 俄羅斯位於歐洲境內的地形，主要與下列哪一幅等高線地形示意圖相似？



《答案》C

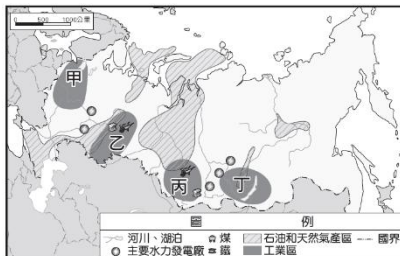
詳解：俄羅斯在歐洲的地形主要為歐俄平原。

7. () 附圖是俄羅斯的木製玩具，早期這些玩具的外觀多依據當地主要族群的特色描繪製作。請問：其所依據的最可能是哪一族群？ (A)猶太人 (B)斯拉夫人 (C)阿拉伯人 (D)庫德族人。



《答案》B

8. () 附圖中的甲～丁是俄羅斯主要工業區的分布。請問：圖中哪一個工業區擁有「人口眾多，交通便利」的優勢條件，為該國境內歷史悠久的工業區？ (A)甲：莫斯科工業區 (B)乙：烏拉爾山工業區 (C)丙：庫斯內次工業區 (D)丁：貝加爾湖工業區。



《答案》A

9. () 「西元 2021 年初，美國遭逢暴風雪肆虐，超過 1 億人籠罩在惡劣天氣下，芝加哥積雪達 20 公分，愛荷華州更降下大雪，每小時降雪量可能高達 5 公分。路面結冰恐造成事故，而民眾想要開車出門，也得先剷雪。」請問：北美洲的平原地區冬季時常有暴風雪，這與下列哪一項因素最相關？ (A)平原空曠有利冷氣團南下 (B)太平洋沿岸有

寒流經過 (C)平原地區有冷、暖空氣交會 (D)來自墨西哥灣熱帶氣旋侵襲。

《答案》A

10. () 北美大平原「北部」可見到大小不等的湖泊分布，這些湖泊的主要成因為何？ (A)斷層陷落 (B)風力侵蝕 (C)冰河侵蝕 (D)河川沖積。

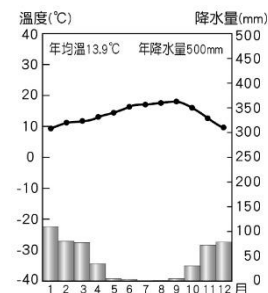
《答案》C

詳解：北美大平原北部因冰河作用影響，形成眾多的冰蝕湖，如美、加邊境的五大湖。

11. () 北美洲的北極圈附近，冬季嚴寒而長，常年冰天雪地，氣候屬於下列哪一種類型？ (A)寒帶氣候 (B)高地氣候 (C)沙漠氣候 (D)溫帶大陸性氣候。

《答案》A

12. () 附圖為北美洲某地的氣候圖。依據圖中資料研判，該地最可能位於下列何處？ (A)美國西南部沿岸 (B)美國東南部沿岸 (C)加拿大西部沿岸 (D)加拿大東部沿岸。



《答案》A

詳解：由氣候圖可知該地為夏乾冬雨的溫帶地中海型氣候，因此是位於北緯 30~40 度的太平洋沿岸，即美國西南部沿岸一帶。

13. () 下列關於北美洲的重要工業帶或都市的敘述，何者正確？ (A)洛杉磯為全球最重要的金融中心 (B)五大湖區以石化工業和太空工業著

稱 (C)芝加哥是美國中西部農牧產品交易中心 (D)墨西哥灣沿岸是高科技工業的創新中心。

《答案》C

詳解：洛杉磯為電視、電影產業中心，全球金融中心為紐約。五大湖區是傳統的鋼鐵和汽車工業中心。墨西哥灣沿岸石化工業興盛。

14. () 「在星巴克喝著咖啡，慵懶的使用微軟(Microsoft)筆電瀏覽 Facebook、利用 Google 查詢寫報告所需的資料，然後用蘋果手機發 IG 動態，呼朋引伴準備去電影院看《復仇者聯盟》電影續集。」請問：上述的日常生活景象，顯示哪一個國家的企業投資對全球經濟產生深遠影響？ (A)美國 (B)荷蘭 (C)中國 (D)日本。

《答案》A

15. () 美國政府採取「零容忍」政策，阻止中南美洲人尋求庇護，司法部長塞申斯解釋道：「如果你非法跨越美國和拉丁美洲的陸上邊界，那麼我們就會起訴你——就是這麼簡單。」請問：上文中所敘述的邊界是指圖中哪一條界線？ (A)甲 (B)乙 (C)丙 (D)丁。



《答案》A

16. () 小名到某地區參加熱鬧的嘉年華會，拍攝照片如附圖所示。他發現當地的遊行融合了黑人、印第安及拉丁文化，相當有特色。請問：他所前往的國家最可能為何？ (A)美國 (B)巴西 (C)智利 (D)阿根廷。



《答案》B

17. () 墨西哥的邊境工業相當發達，在邊境設立了許多加工出口區，和其參與了哪一個國際性組織有非常密切的關係？ (A)WTO (B)APEC (C)OPEC (D)USMCA。

《答案》D

詳解：《美墨加協定》原名為《北美自由貿易協定》，是美國、墨西哥、加拿大三國簽署的經濟協定。

18. () 西元 2021 年某新聞報導：「電動車、可再生能源成為全球趨勢潮流，導電能力佳的銅需求也與日俱增，報價飆 10 年新高。全球最大產銅國，卻因政治問題、新冠肺炎 (COVID-19)、社會動亂，面臨銅、鋰礦脈投資者卻步的窘境。」請問：上文中全球最大產銅國應是下列哪一個國家？ (A)古巴 (B)巴西 (C)智利 (D)玻利維亞。

《答案》C

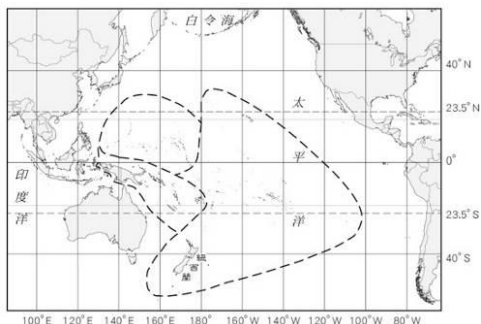
19. () 全球工業化地區不斷擴展，但資源分配不均，經濟較發達地區提供資金、技術，獲利較豐；發展中國家則多從事需勞力的加工製造，或較為依賴第一級產業的輸出，獲利

不多。由以上情形判斷，下列哪些地區發展中國家較多？(甲)北美洲 (乙)歐洲 (丙)非洲 (丁)中南美洲
(A)甲乙 (B)甲丙 (C)乙丁 (D)丙丁。

《答案》D

詳解：中南美洲與非洲國家多為輸出農、礦原料，故較多發展中國家。

20. () 附圖為大洋洲各島群的分布圖。以紐西蘭所處的位置判斷，其原住民族毛利人最可能是來自下列哪一個島群？(A)美拉尼西亞 (B)密克羅尼西亞 (C)玻里尼西亞 (D)索羅門群島。



《答案》C

詳解：紐西蘭屬於玻里尼西亞島群的範圍。

21. () 附圖中的冰河地形景觀——峽灣海岸，除了可以在歐洲欣賞到之外，下列哪一個地區亦有相似的地形？(A)臺灣 (B)帛琉 (C)夏威夷 (D)紐西蘭南島。



《答案》D

詳解：紐西蘭南島冰河地形發達，可見峽灣景觀。

22. () 下列何者因同時擁有火山與冰河地形，地形多樣，被稱為「活的地形教室」？(A)澳洲 (B)紐西蘭 (C)美拉尼西亞島群 (D)密克羅尼

西亞島群。

《答案》B

23. () 「澳洲是褐色的大陸，紐西蘭是綠色的島嶼。」這句話是指兩者景觀上有相當大的差異，這種差異是來自降水量多寡的不同。請問：澳洲、紐西蘭氣候的乾、溼程度主要是受哪些氣候帶影響？(A)季風帶、副熱帶高壓帶 (B)副熱帶高壓帶、西風帶 (C)西風帶、極地高壓帶 (D)熱帶低壓帶、極地高壓帶。

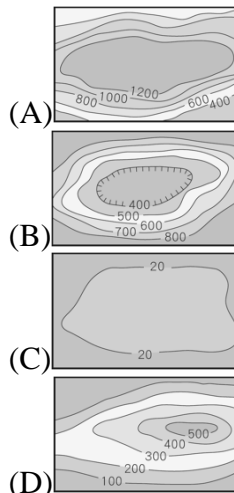
《答案》B

詳解：澳洲受副熱帶高壓帶影響有熱帶沙漠氣候；紐西蘭受西風帶影響主要為溫帶海洋性氣候。

24. () 小美一家人於暑假前往澳洲旅遊，下列何者是小美在澳洲旅遊可能遇到的情況？(A)欣賞毛利人傳統歌舞表演 (B)正值夏天海灘充滿遊客 (C)時常遭遇地震 (D)英語為當地通用語言。

《答案》D

25. () 南極洲為一古老陸塊，下列哪一張等高線地形圖最能表示其地形主體？



《答案》A

26. () 關於資源的「稀少性」，以下敘述何者正確？(A)是指資源總量相當少 (B)指的是資源分配不均的問題 (C)資源取之不盡用之不竭

(D)源自於無法滿足人類無窮的欲望。

《答案》D

27. ()我們應該如何使用有限的資源，才能追求個人欲望最大的滿足？
(A)最少量的使用 (B)最大量的使用
(C)完全不使用 (D)最有效率的使用。

《答案》D

28. ()在吃的方面，不但要吃得飽，吃得好，更要講究色、香、味俱全，以及良好用餐氣氛，這種「好還要更好」的想法，說明了人們的哪種心態？ (A)知足常樂 (B)健康理念 (C)欲望無窮 (D)資源有限。

《答案》C

29. ()多多在速食店打工，時薪為 180 元。某天多多為了去排隊領取免費的餐券，而向速食店請假 2 個小時。關於多多的選擇，下列敘述何者正確？ (A)做選擇的主因為「資源無窮，欲望有限」 (B)餐券為免費領取，其選擇的機會成本為零 (C)少賺的打工薪資仍須納入機會成本的計算 (D)利用請假的時間去排隊，不存在機會成本。

《答案》C

30. ()黃先生是一家運動用品公司的老闆，他的公司在生產過程中，使用各種生產資源時所必須付出的代價，稱為下列何者？ (A)利潤 (B)機會成本 (C)生產成本 (D)銷貨收入。

《答案》C

31. ()生產者的銷貨收入扣掉生產成本所剩餘的部分，稱之為何？ (A)機會成本 (B)利息 (C)利潤 (D)儲蓄。

《答案》C

32. ()曉喬打算在自己的飲料店中增加

新產品——仙草奶茶，她算了算，一杯仙草奶茶的成本大概 13 元，所以她把仙草奶茶的價格定為 35 元。根據內容判斷，一杯仙草奶茶的利潤為何？ (A)13 元 (B)15 元 (C)22 元 (D)35 元。

《答案》C

33. ()擁有一間夜市店面的小曾，起初為搶攻外籍觀光客市場，決定販售臺灣特產茶葉、鳳梨酥等伴手禮，然而新冠肺炎疫情爆發後，觀光客驟減，小曾為開發新客群而思考調整行銷策略。其所考慮的為下列何種課題？ (A)何時生產 (B)如何生產 (C)生產什麼 (D)為誰生產。

《答案》D

34. ()正光大賣場正在做促銷活動，凡是消費者消費滿 300 元以上，將獲得 100 元的折價券並能夠參加摸彩活動。正光大賣場做促銷活動，主要在達到下列哪種效果？ (A)降低生產成本 (B)降低交易風險 (C)提高產品價格 (D)增加購買意願。

《答案》D

35. ()消費者購買產品時，大多會選擇價格較便宜的產品購買，購買數量也可能比同款較昂貴的產品多。廠商間用降價方式來吸引更多消費者，這是何種競爭方式？ (A)產品競爭 (B)價格競爭 (C)品牌形象 (D)非價格競爭。

《答案》B

36. ()下列何者是廠商不公平競爭對消費者的負面影響？ (A)能買到更便宜的產品 (B)能清楚了解產品資訊 (C)買到品質不佳的產品 (D)獲得完善的售後服務。

《答案》C

37. ()小倩在網路上看到一篇新聞報導

近日有網路賣家推出不同的防疫商品，如血氧機、具有血氧偵測功能的智慧穿戴手環等，消費者一不留神，就可能誤買到劣質商品或瑕疵品。

消費者若遇到上述情形，向何者提出申訴較不適當？ (A)公平交易委員會 (B)消費者服務中心 (C)消費者保護處 (D)消費者保護官。

《答案》A

38. ()志傑與同學在討論公民課的分工與貿易，請問：下列哪項說法錯誤？ (A)藉由機會成本可以找出最有利的分工模式 (B)專業分工可有效提升產量但無法兼顧品質 (C)生產模式中選擇機會成本低的项目分工製造才有效率 (D)專業分工後可以藉由大規模生產提升產量。

《答案》B

詳解：分工與品質都可以兼顧。

39. ()產品若依專業化生產後，會使整體總產量產生何種變化？ (A)不變 (B)增加 (C)減少 (D)不一定。

《答案》B

40. ()從經濟學的角度來看，個人進入社會後必須如何選擇工作以進行專業分工？ (A)選擇機會成本較低的工作 (B)選擇機會成本較高的工作 (C)選擇自己較不擅長的工作 (D)選擇自給自足的工作。

《答案》A

41. ()從經濟學的角度，在分工的過程中，讓什麼降到最低，可得到最大的利益？ (A)機會成本 (B)設備成本 (C)產出數量 (D)工作時數。

《答案》A

42. ()附圖是某組織單位的介紹文，該單位最有可能為下列何者？ (A)中央銀行 (B)國際貨幣基金組織 (C)財政部 (D)國家發展委員會。

……由其負責發行，並以法令強制規定價值的貨幣為硬幣與紙鈔……

《答案》A

詳解：中央銀行負責在我國發行法定貨幣。

43. ()早期人們使用以物易物的方式進行交易，下列何者為此種交易的特色？ (A)衡量物品的價值缺乏公平標準 (B)交易過程省時省力 (C)由國家強制規定其價值 (D)物品方便保存與攜帶。

《答案》A

44. ()新聞報導：「近來因國際投資客將大筆資金投入我國金融市場，使得新臺幣相對美元大幅升值，○○將會適當介入控制貨幣數量，以維持物價的穩定。」○○指的應為下列何者？ (A)經濟部 (B)財政部 (C)中央銀行 (D)進出口同業公會。

《答案》C

45. ()在我國，負責發行新臺幣的政府機構為下列何者？ (A)臺灣銀行 (B)財政部 (C)合作金庫 (D)中央銀行。

《答案》D

46. ()大雄常有衝動購物的行為，個人的收入狀況也不穩定，下列哪一種支付方式較適合大雄使用？ (甲)信用卡 (乙)儲值卡 (丙)現金交易 (A)甲乙 (B)甲丙 (C)乙丙 (D)甲乙丙。

《答案》C

47. ()宸瑄向朋友抱怨，他的某種「支付工具」遺失了，撿到的人非常可惡，非但沒有還給他，還拿去盜用，幸好與該項支付工具連結的特定帳戶已經剩下沒多少錢，所以損失並不嚴重。此外，因為他特別進行了「記名」的動作，所以警方沒多久就找到這個盜用的人。宸瑄遺失的「支付工具」最有可能是下列何者？ (A)信用卡 (B)儲值卡 (C)金融卡 (D)提款卡。

《答案》B

詳解：題目中的支付工具必須與特定帳戶連結，而且要先存入現金才能使用，故此工具為儲值卡。

48. ()隨著社會的發展，下列何者已不是現代社會上常見的交易方式？
(A)儲值卡 (B)信用卡 (C)以物易物 (D)以手機裝置支付。

《答案》C

49. ()個人運用自己的心力或體力，創造出能滿足自己或他人需求的事物，以增進個人、家庭或社會的福祉，稱為下列何者？ (A)交易 (B)勞動 (C)國際貿易 (D)機會成本。

《答案》B

50. ()勞工團體呼籲，法律應更明確規範工資、工作時間、休假、童工等重要事項的保障。上述法律最可能為下列何者？ (A)《民法》 (B)《憲法》 (C)《刑法》 (D)《勞動基準法》。

《答案》D