

一、單題

1. () 以「成就的性質」比較，下列何人的成就與其他三人不同？ (A)牛頓 (B)伽利略 (C)笛卡兒 (D)馬丁路德。

答案：(D)

解析：(D)馬丁路德是宗教改革家。

2. () 速食店的薯條普遍受大家的喜愛。請問：歐洲人最早能享用馬鈴薯等美洲作物，是因為下列何者的發生？ (A)文藝復興 (B)海外擴張 (C)蒙古西征 (D)宗教改革。

答案：(B)


解析：(B)海外擴張使美洲作物，如玉米、番薯及馬鈴薯等，傳至歐洲和亞洲。

3. () 「但是當我把所有的思想都視為虛假的時候，我又立刻發覺，這個產生這種思想的『我』也是絕對重要的，因此才注意到『我思故我在』的真理是如此的穩固，如此的確定。因此，我決定毫不猶豫地接受它，作為我所尋求哲學的第一原理。」其講述這段話的人最有可能是下列何者？ (A)笛卡兒 (B)培根 (C)牛頓 (D)伽利略。

答案：(A)

解析：(A)由「我思故我在」可知。

4. () 附圖是印度北部著名景點泰姬瑪哈陵，它是蒙兀兒帝國沙賈汗為了紀念他的妻子而建。這種主建築外有高聳叫拜樓(柱子)建築樣式，是哪一宗教的建築特色？



- (A)祆教 (B)佛教 (C)伊斯蘭教 (D)基督教。

答案：(C)

解析：泰姬瑪哈陵是蒙兀兒帝國的代表建築物之一，建築風格融合印度及伊斯蘭教文化，主建築外有叫拜樓風格的建築為伊斯蘭教建築特色。

5. () 附圖顯示某時期美洲與歐、亞、非之間的商品交流與疾病傳播。此交流情形，最有可能出現在下列何時？



- (A)9世紀的巴格達 (B)12世紀的馬雅城邦 (C)13世紀的泉州港 (D)16世紀的墨西哥城。

答案：(D)

解析：此圖是15~17世紀大航海時代，美洲與歐、亞、非之間的交流情形。

6. () 他越過南方海域，繼續往西邊航行，經歷一百多天的旅程他們的船隊終於橫越海洋，遇到講著馬來語系的土著，因此他知道離目的地香料群島不遠了，又因為這一百多天都是風平浪靜的晴朗天氣，他就將這片海洋命名為「太平洋」，最終他的船隊完成繞行地球一周的壯舉。請問：上述的「他」是指下列何人？ (A)麥哲倫 (B)哥倫布 (C)達伽馬 (D)狄亞士。

答案：(A)

解析：麥哲倫的船隊橫渡太平洋，完成繞行地球一周的壯舉。

7. () 附圖為17世紀某公司的徽章，其在東亞進行瓷器、絲綢等貿易。請問：該公司前往東亞貿易的理由不包括下列何者？



- (A)賺取更多利潤 (B)爭奪殖民地 (C)拓展新教區 (D)打敗鄭氏政權。

答案：(D)

解析：圖為荷蘭聯合東印度公司的徽章。(D)荷蘭被鄭氏政權打敗，退出臺灣。

8. () 相傳有一位羅馬君主在與敵人對戰的過程中，看到天邊出現耀眼十字架，他認為這是基督的庇祐，因此他成為第一位信奉基督教的羅馬皇帝，下令將基督教成為合法宗教，並允諾宗教自由。這位羅馬君主是誰？ (A)君士坦丁 (B)狄奧多西 (C)屋大維 (D)凱撒。

答案：(A)

解析：君士坦丁在西元4世紀初宣布基督教為合法宗教。

9. () 就讀美術系的小茵十分欣賞文藝復興時期的畫作，她應該會經常觀摩哪些藝術大師的作品？(甲)達文西(乙)薄伽丘(丙)米開朗基羅(丁)拉斐爾 (A)甲乙丙 (B)乙丙丁 (C)甲乙丁 (D)甲丙丁。

答案：(D)

解析：(乙)是文學家。

10. () 根據考古研究發現，古埃及文字大約創於西元前3500年，由圖像和表音符號所構成，多刻在墓穴、紀念碑、廟宇的牆壁或石塊上，被稱為「聖書體」。請問：古埃及的文字屬於下列何者？ (A)拼音文字 (B)楔形文字 (C)象形文字 (D)拉丁文字。

答案：(C)

解析：古埃及人發明「象形文字」。

11. () 小米研讀西洋歷史，得知古西亞、埃及、希臘三個地區的文明可以互相融合，與下列哪一帝國的建立有關？ (A)蒙古帝國 (B)波斯帝國 (C)羅馬帝國 (D)亞歷山大帝國。

答案：(D)

解析：在亞歷山大東征後，希臘、西亞、埃及等地的文化逐漸融合，形成「希臘化文化」。

12. () 西元11世紀，基督教第一次分裂後，西歐各地普遍信仰哪一教派？ (A)羅馬公教 (B)希臘正教 (C)伊斯蘭教 (D)祆教。

答案：(A)

解析：11世紀中期，基督教第一次分裂，西歐信仰羅馬公教。

13. () 考古學家在古羅馬帝國遺址發現了西元1世紀左右的文獻，這份文獻是以當時通用的哪一種文字所寫成？ (A)希臘文 (B)埃及文 (C)腓尼基文 (D)拉丁文。

答案：(D)

解析：古羅馬使用拉丁文。

14. () 此宗教原為古代西亞地區某個民族的信仰，卻對後來基督教、伊斯蘭教的教義發展有重大影響。上述是指下列哪一古老宗教？ (A)天主教 (B)佛教 (C)猶太教 (D)祆教。

答案：(C)

解析：猶太教的一神信仰對後來的基督教和伊斯蘭教

有很大的影響。

15. () 一本介紹古歷史的書籍上寫道：「上古時代的西亞，有一個民族在夜晚以星星辨識方向而不會迷途，他們的商船往來於地中海各地；他們也取用兩河流域的楔形文字與埃及的表音符號書寫自己的文字，因貿易之便傳往歐洲，是傳播文明的重要媒介。」請問：這是下列哪個民族？ (A)波斯人 (B)腓尼基人 (C)蘇美人 (D)猶太人。

答案：(B)

16. () 許多宗教詞彙已經成為日常生活中的用語，例如：「緣分」、「普渡眾生」、「覺悟」、「菩薩心腸」。請問：這些詞彙源於哪個宗教或宗派？ (A)佛教 (B)基督教 (C)耶穌會 (D)伊斯蘭教。

答案：(A)

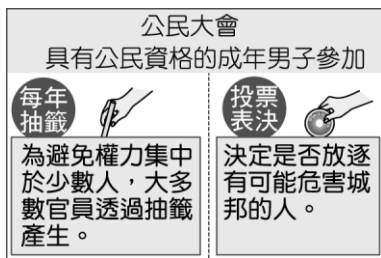
17. () 馬丁路德強調聖經在信仰上的重要性，因此希望能讓更多信徒直接閱讀聖經。請問：他使用哪一種語文翻譯聖經？ (A)拉丁文 (B)德文 (C)法文 (D)英文。

答案：(B)

18. () 雅典城邦是希臘古典文明的重要代表城邦。請問：下列有關雅典的敘述何者正確？ (A)實施軍事統治 (B)最重視農業發展 (C)鼓勵公民參與政治 (D)所有人都能參與議決。

答案：(C)

19. () 附圖為某古代文明政治運作的特色，此文明最可能是下列何者？



(A)埃及 (B)蘇美 (C)雅典 (D)波斯。

答案：(C)

20. () 古希臘曾發展出許多在政治上和經濟上獨立的城邦，其主要因素為何？ (A)血統語言差異 (B)宗教信仰不同 (C)波斯帝國施壓 (D)地形多山崎嶇。

答案：(D)

21. () 1月26日是澳洲的國慶日，為首批英國人移居澳洲的日子。近年來，澳洲的國慶日往往出現抗議的集會遊行，希望更改國慶日的日期。請問：此抗議聲浪的出現，主要是因為不認同下列何事？ (A)澳洲自英國獨立 (B)澳洲原住民起事 (C)澳洲開發金礦吸引投資 (D)將殖民起始日訂為國慶日。

答案：(D)

22. () 阿里巴巴與四十大盜、阿拉丁神燈等耳熟能詳的故事都是出自經典文學名著天方夜譚，這本書常以下列哪個城市的繁榮與發展為背景？ (A)羅馬 (B)巴格達 (C)耶路撒冷 (D)君士坦丁堡。

答案：(B)

23. () 某作品以14世紀遭受黑死病襲擊的佛羅倫斯為背景，以義大利文創作，反映當時的社會面貌。該書描寫幾位青年男女為躲避疫情而遷居鄉間，輪流說故事作為消遣，本書內容就這些故事的集合。請問：本書的作者最可能是下列何者？ (A)但丁 (B)薄伽丘 (C)佩脫拉克 (D)莎士比亞。

答案：(B)

24. () 理化老師在進行「溫度與溫度計」教學時，提到發明溫度計的是義大利的一名科學家，他還使用自己改良的望遠鏡，證實先前的「地繞日動」學說。請問：此學者為何人？ (A)哥白尼 (B)伽利略 (C)培根 (D)牛頓。

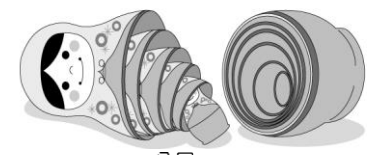

答案：(B)

25. () 在宗教改革的背景下，天主教受到新教的衝擊，本身也進行了改革。請問：天主教成立什麼組織，對明末清初的東西方文化交流有所貢獻？ (A)長老教會 (B)喀爾文教派 (C)英國國教派 (D)耶穌會。

答案：(D)

一、單題 (每題4分，共100分)

1. () 西元1994年部分國家協議成立北美自由貿易協定 (NAFTA)，藉由降低彼此間關稅的方式，來提升區域內國家的國民福利。請根據位置判斷，下列哪一個國家不是這個組織的會員國？ [95.第二次基測修訂] (A)美國 (B)紐西蘭 (C)墨西哥 (D)加拿大。
2. () 美國和加拿大為世界主要的糧食輸出國，為當地農夫帶來了豐富的收入。請問：當地農業活動的主要特色為何？ (A)集約生產耕作方式 (B)引進勞力密集耕作 (C)農地狹小精耕細作 (D)大規模種植單一作物。
3. () 中南美洲都為殖民地式經濟型態，其中哪一個國家主要依賴石油的對外輸出，因此受到市場價格波動的影響甚大，國內經濟不穩定？ (A)巴西 (B)阿根廷 (C)委內瑞拉 (D)智利。
4. () 俄羅斯娃娃是由多個相同圖案的空心木頭娃娃，一個套一個組合而成，是俄羅斯最具代表性的紀念品 (如附圖)。此木頭屬於下列哪一種植物林相？



- (A) 公尺
30
20
10
1
2
1
- (B) 公尺
20
10
- (C) 公尺
15
10
5
- (D) 公尺
2
1

5. () 北美洲中部為世界重要的農業生產地帶，被稱為「世界麵包籃」，糧食作物運銷至世界各地。請問：附表中有關北美洲中部地區的農業特色敘述，何者最為正確？

地形	耕作類型	主要作物	耕作方式
山坡梯田	集約農業	稻米	機械化程度高

(A)地形 (B)耕作類型 (C)主要作物 (D)耕作方式。

6. () 附圖中深色部分為某農業活動的分布地區，請問：其主要作物應為下列何者？



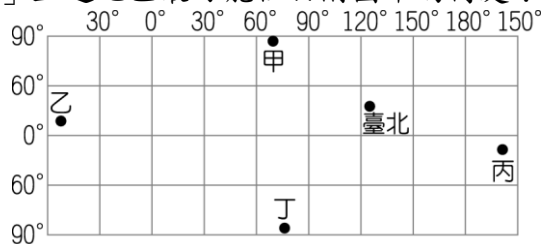
(A)小麥 (B)棉花 (C)葡萄 (D)甘蔗。

7. () 南歐位於溫帶地中海型氣候區內，其主要雨季和生長季節不同，因此以灌溉農業為主。請問：該地區的主要雨季為何時？ (A)3月 (B)6月 (C)9月 (D)12月。

8. () 美國的黃石國家公園有特殊的地熱噴泉景觀，成為世界著名的旅遊勝地。請根據其地形作用判斷，該國家

公園最可能位於哪一個地形區？ (A)五大湖區 (B)拉布拉多高原 (C)洛磯山脈 (D)密西西比河沖積平原。

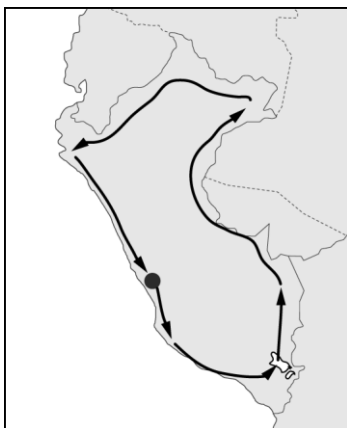
9. () 「當地雖然陸地範圍很大，但是因為緯度高、年均溫低，除了一些探險家或科學家之外，幾乎沒有什麼人居住。」上述地區最可能位於附圖中的何處？



- (A)甲 (B)乙 (C)丙 (D)丁。
10. () 巴西的汽車工業相當發達，成為拉丁美洲重要的汽車生產國。請問：該國最有利於汽車生產的條件為何？ (A)技術進步 (B)鐵礦豐富 (C)石油開採 (D)關稅協定。
11. () 奧地利、匈牙利、塞爾維亞、克羅埃西亞和斯洛維尼亞這五個相鄰的國家，為保護境內某一河川流域的重要自然資源和野生動物，於2011年簽訂一項宣言，建立跨國的自然保護區。上述河川應是指附圖中何者？〔103.會考〕



- (A)甲 (B)乙 (C)丙 (D)丁。
12. () 墨西哥為美墨加協定的會員國，因此外國企業紛紛在其境內何處設立加工出口區？ (A)墨西哥灣沿岸 (B)太平洋沿岸 (C)美、墨邊境 (D)大西洋沿岸。
13. () 俄羅斯境內哪一個地區石油蘊藏量豐富，成為重要的經濟來源？ (A)歐俄平原 (B)太平洋沿岸 (C)西伯利亞 (D)波羅的海。
14. () 一名德國的極限運動員，為挑戰自己的極限，環秘魯馬拉松連跑86天，由首都出發，一路跑過海灘、沙漠、雪山山頂、雨林等各種地形，最終挑戰成功。他的環秘魯馬拉松路線中，最可能經過哪些地方？(甲)亞馬孫盆地(乙)安地斯山脈(丙)巴西高原(丁)彭巴草原




- (A)甲乙 (B)乙丙 (C)丙丁 (D)甲丁。
15. () 歐洲的阿爾卑斯山為當地主要的山脈，下列有關該山脈的敘述，何者錯誤？ (A)板塊作用形成 (B)山脈東西走向 (C)東為三大半島 (D)冰河地形分布。
16. () 《南極條約》凍結領土所有權的主張，促進國際上各國在哪方面的合作？ (A)政治 (B)經濟 (C)軍事 (D)科學。
17. () 澳洲境內有在其他地區所見不到的動物，如無尾熊及袋鼠等，有利當地發展觀光事業。請問：該國能擁有

此種特殊資源的主要原因為何？ (A)因四面環海，長期與各大陸隔絕 (B)沙漠面積廣大，阻隔物種接觸 (C)原住民具保護概念，不從事狩獵活動 (D)疆域地廣人稀，人類的干擾較少。

18. () 小陳看到財經新聞：「城下之盟」剝奪兩國貿易自主權，屬於典型的「美國優先」，下列哪一個條約2020年正式生效取代北美自由貿易協定？ (A)EU (B)APEC (C)NAFTA (D)USMCA。
19. () 德國境內的萊因河水運相當發達，其河川多直接流入哪一個海洋，因此對外貿易興盛？ (A)地中海 (B)北海 (C)黑海 (D)大西洋。
20. () 全球暖化引發氣候異常，其中包含短時間降水集中的現象。這種現象對於下列何種氣候災害的影響最小？ (A)豪雨 (B)洪水 (C)海水面上升 (D)土石流。
21. () 2016年巴西奧運在8月5日到8月21日舉行，主要場館位於巴西境內的里約、巴西利亞等城市，記者由臺灣前往附圖中的巴西利亞場館進行採訪時，可能會遇到哪一氣候狀況？



- (A)高溫且多午後雷陣雨 (B)乾爽少雨的晴朗天氣 (C)連日的低溫與暴風雪 (D)颶風帶來狂風與暴雨。
22. () 美國中部大平原的氣候變化劇烈，北部五大湖區冬季常有寒流帶來暴風雪，中南部則在春、夏之交經常有龍捲風肆虐，南部夏季則易受颶風侵襲。上述氣候特色和哪一項自然地理特徵關係最為密切？ (A)位於中緯度溫帶地區 (B)終年受西風吹拂 (C)主要山脈呈南北向偏西分布 (D)位於大西洋及太平洋之間。
23. () 小飛去大溪地旅遊，住在當地的度假村(如附圖)，其建築形式與下列哪一因素相關？



- (A)面積狹小 (B)高溫多雨 (C)農業發達 (D)交通便利。
24. () 美國的能源消耗量大，因此前副總統高爾便提出未來面臨的溫室效應問題，希望喚醒大家的危機感。請問：這種現象和下列何者關係最密切？ (A)面積廣大、交通頻繁 (B)機械耕作、消耗能源 (C)經濟發達、大量消費 (D)人口眾多、集中南部。
25. () 附表為2014年中國、美國、印度和巴基斯坦的棉花生產與消費資料。已知棉花的消費主要用在製造紡織產品，而棉紡織工廠多設在勞力較為低廉的地方。根據表中資料判斷，何者應為美國？〔107年會考〕

單位：萬噸

國家	國內棉花生產量	國內棉花消費量
甲	713.1	751.2
乙	675.0	508.4
丙	281.1	77.3
丁	206.8	226.4

(A)甲 (B)乙 (C)丙 (D)丁。

地理題庫答案

1.答案：(B)

解析：紐西蘭不在北美洲境內，因此非該區域經濟組織的成員。

2.答案：(D)

解析：美國和加拿大的農業多採粗放的生產方式，農田以機械化耕作為主。

3.答案：(C)

解析：委內瑞拉盛產石油，為石油輸出國家組織的會員國，經濟相當依賴石油輸出。

4.答案：(B)

解析：俄羅斯位居高緯，屬於寒帶針葉林林相，故選(B)。

5.答案：(D)

解析：分布於平原，粗放方式經營，主要生產小麥。

6.答案：(C)

解析：圖中分布帶為地中海型農業活動區，以耐旱果樹為主。

7.答案：(D)

解析：溫帶地中海型氣候的雨季為冬季。

8.答案：(C)

解析：美國西部地區多火山活動，易產生地熱現象。

9.答案：(D)

解析：圖中的丁位於南極大陸，南極大陸因緯度高、年均溫低，除了一些探險家或科學家之外，幾乎沒有什麼人居住。

10.答案：(B)

解析：巴西盛產鐵礦，因此有利於重工業發展。

11.答案：(B)

解析：文中提及的是東歐國家，位於多瑙河流域。圖中甲為聶伯河，乙為多瑙河，丙為萊茵河，丁為西班牙境內的河川。

12.答案：(C)

解析：加工出口區多設於美、墨邊境，以利於加工產品就近出口美國市場。

13.答案：(C)

解析：俄羅斯境內重要的石油資源主要分布於西伯利亞。

14.答案：(A)

解析：秘魯有安地斯山脈縱貫國土，東部為亞馬孫盆地。

15.答案：(C)

解析：(C)南歐三大半島位於阿爾卑斯山南側。

16.答案：(D)

解析：(D)《南極條約》促進各國科學的合作。

17.答案：(A)

解析：澳洲由於位置孤立，與其他大陸少有接觸，因此出現特有的生物物種。

18.答案：(D)

解析：(D) USMCA 2020 年正式生效取代北美自由貿易協定。

19.答案：(B)

解析：德國境內的萊茵河多由南向北流，匯入北海。

20.答案：(C)

解析：海水面積廣大，因此短暫性質的降水不至於造成海水面上升。

21.答案：(B)

解析：巴西的巴西利亞屬於熱帶莽原氣候，氣候夏雨冬乾，8

月奧運時正值南半球冬季。

22.答案：(C)

解析：(C)美國中部大平原北起哈得孫灣，南到墨西哥灣，由於地勢空曠且無山脈阻擋，因此冷、暖氣團在此交會，形成劇烈的氣候變化。

23.答案：(B)

解析：大溪地高溫多雨，故為高腳屋形式的度假村。

24.答案：(C)

解析：美國主要因為大量生產、大量消費的特性，造成能源使用量大。

25.答案：(C)

公民題庫

1.() 在 21 世紀的今天，跨越國際的經濟活動普遍發生，根據以下媒體的報導判斷，這些跨國企業所做的改變目的為何？

經濟前線

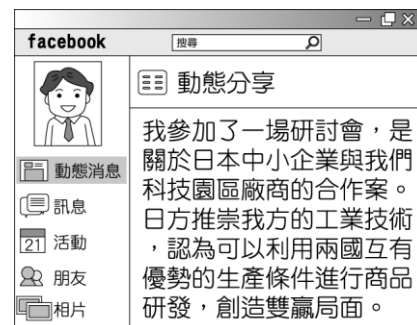
近 10 年來，工資大幅調漲已讓在該地區設廠的優勢消失，許多跨國企業開始把生產製造的部門移到勞工眾多且工資較低廉的東南亞國家。

(A)開發自然資源 (B)避免勞資衝突 (C)降低生產成本 (D)降低國際運費。

答案：(C)

解析：主要目的在減少支付工資的成本。

2.() 嘉彬在網誌上和朋友們分享工作點滴(如附圖所示)。請問：



() (1) 日方欲與我國廠商合作最主要的目的應為下列何者？

(A)降低生產成本 (B)增加銷售成本 (C)促進產業轉型 (D)保護國內產品。

() (2) 根據上文，下列相關敘述何者正確？ (A)從事國際分工，有助於發揮最佳生產效能 (B)經濟發展重心應轉向以勞力密集產業為主流 (C)為創造自有品牌，應避免與他國進行技術交流 (D)須與外國廠商合作，才能確保產品製造品質。

答案：(1)(A)；(2)(A)

解析：(1)各國生產條件不同，因此選擇較有優勢的部分從事國際產業分工，可將成本降低獲得較多利潤。

(2)專業化的國際分工能夠運用各地最有利的生產條件，提升生產效率。

3. () 幾位同學參加學校舉辦的經濟知識王快問快答比賽，對於以下問題，下列何人的回答最正確？

Q：我國從國外進口牛肉的原因為何？

- (A)小崧：本土產量過多 (B)小懷：國內生產不足
(C)小勉：缺乏銷售市場 (D)小羯：減少貿易支出。

答案：(B)

解析：(A)若產量足夠，不會自國外進口(C)消費者願意購買，廠商才會進口(D)進口貨物將增加貿易支出。

4. () 學校舉辦義賣園遊會，小青將自己彩繪的 T 恤及帽子擺設在班上的攤位販售，結果被搶購一空，甚至有同學願意出高價請她彩繪自己的衣服。請問：小青彩繪的衣物熱銷是因具備了下列何種特性？ (A)替代性 (B)同質性 (C)功能性 (D)稀少性。

答案：(D)

解析：由「搶購一空」可知，小青彩繪的衣物具有稀少性。

5. () 媽媽讓聖凱從附表中挑選一項禮品作為生日禮物，若聖凱單以喜好程度做選擇，下列何項敘述正確？

禮品項目	喜好程度	價格
球鞋	☆	890 元
手表	☆☆	650 元
背包	☆☆☆	580 元
水杯	☆☆☆☆	250 元

(A)選擇球鞋的機會成本是手表 (B)選擇手表的機會成本是球鞋 (C)選擇背包的機會成本是球鞋 (D)選擇水杯的機會成本是背包。

答案：(D)

解析：聖凱最喜愛的是水杯，所以選擇其他三者的機會成本是水杯。

6. () 佑馨發布以下的動態消息，與朋友分享最近的購物經驗，根據內容判斷，下列敘述何者正確？

動態更新

我家附近新開了一家環保雜貨店，不提供任何包裝用品，不管是五穀、食用油、麵條、茶葉、咖啡等，均須自帶容器或袋子將購買的物品裝盛回家。雖然他們提供不錯的優惠折扣，吸引不少人光顧，但我還是覺得很麻煩，很少光顧。後來店內開始販售很多我支持的小農商品，吸引我前去消費，現在我竟也慢慢習慣這種無塑生活了。

(A)雜貨店的包裝策略目的在提升商品品質 (B)佑馨改變消費習慣是受到正向誘因影響 (C)店內的優惠折扣屬於非金錢誘因 (D)每位客人對同一誘因的反應均相同。

答案：(B)

解析：(A)保護環境(C)金錢誘因(D)有些人因優惠折扣而消費，佑馨則是因對小農商品的偏好而消費。

7. () 歐洲、日本品牌的化妝品紛紛漲價，經濟學學者分析女性消費者對於品牌「忠誠度」高，很少因為化妝品比較便宜就賣得比較好，因此化妝品採取低價策略沒有什麼市場效果。按照上述分析可知女性消費者在購買化妝品時，較易受到下列何種因素的影響？ (A)收入多寡 (B)個人偏好 (C)預期心理 (D)商品價格。

答案：(B)

解析：對於品牌忠誠，就是代表消費者偏好這項商品，因此即使漲價，也不大容易減少其購買數量。

8. () 由附圖對話可知，兩人的消費行為是受到下列哪一項因素的影響？



(A)個人偏好 (B)商品價格 (C)預期心理 (D)收入多寡。

答案：(A)

解析：消費者受到商家推出的集點活動吸引，而增加消費意願。

9. () 附圖中的小嵐和大可兩人應是在討論哪一種生產課題？



(A)為何生產 (B)生產什麼 (C)為誰生產 (D)如何生產。

答案：(D)

解析：兩人正在討論要選擇以何種方式開設珍珠奶茶店，故為「如何生產」的課題。

10. () 面對經濟衰退，各企業紛紛尋求因應之道。附表是阿如家人工作的公司行號所採行的方法。請問：這三家業者所採取的是下列哪一種策略？〔93.第二次基測〕

公司行號	採行的方法
甲工廠	裁撤部分員工
乙公司	減少員工的加班時間
丙商店	暫停各種廣告活動

(A)降低生產成本 (B)增加生產數量 (C)提高單位利潤 (D)調降產品價格。

答案：(A)

解析：由上表可知，三家業者所採取的策略都可以降低生產成本。

11. () 紫滢在研討會上聽到附圖所示的一段話，政府的做法可用下列何項說明表示？



(A)政府與財團在商業的投資上未能達成共識 (B)能利用的土地資源不多，難有更好的選擇 (C)居民期待土地開發能帶動周遭環境的發展 (D)土地資源的分配並非只有經濟效益的考量。

答案：(D)

解析：若政府只追求該塊土地開發後帶來的高商業效益，則不會將其設為古蹟。

12. () 在日常生活中，消費者通常經由市場購買需要的商品。關於以下報導中引發消費糾紛的該類交易市場，何者說明正確？

消費新聞

一名國中生透過網路商店，利用家長的信用卡買了數萬元韓國女團的周邊商品，家長得知後十分生氣，不承認此筆交易，要求店家退回款項。

(A)依交易場所的型態區分屬於有形市場 (B)依交易場所的型態區分屬於無形市場 (C)買方須當面交付現金才算交易成立 (D)只販售店家自行製造生產的產品。

答案：(B)

解析：(A)無形市場(C)利用網路或電話即可成立交易(D)並無此限制。

13. () 近年來，智慧型手機十分普及，消費者只要拿起手機上網，不受時間、空間的限制，就能搜尋想要的商品，例如生活日用品或家電維修服務；若對商品有疑惑，也能留言提問，會有客服回覆解答。網路購物可以選擇取貨的方式，宅配到府或是約定至家裡附近的超商取件，增加許多便利性，這也是吸引消費者的原因之一。除此之外，消費者可以對各家商品進行比價，得到較優惠的價格，比上街購物節省不少體力和金錢。請問：

() (1)關於上文提及的購物方式，下列敘述何者正確？ (A)屬於有形市場 (B)屬於無形市場 (C)僅提供無形勞務 (D)商品價格較高。

() (2)對於上文中畫雙線的地點，下列說明何者正確？ (A)可購買有形財貨 (B)並非具體的買賣場所 (C)拒絕使用現金交易 (D)商品多是現場生產。

答案：(1)(B)；(2)(A)

解析：(1)(C)亦提供有形財貨(D)文中提到可獲得較優惠的價格。

(2)(B)是具體的買賣場所(C)可使用現金交易(D)大多數商品均來自生產者生產。

14. () 各行各業在市場中競爭激烈，依據附圖對話內容判斷，關於這家商店的營運方式，下列說明何者正確？



(A)以折扣優惠促銷商品 (B)採取非價格競爭方式 (C)降低品質來減少成本 (D)運用社群媒體做宣傳。

答案：(B)

解析：在不調整商品價格的情況下，業者以限量販售的特色吸引消費者。(C)(D)並未提及。

15. () 附圖報導是某報紙刊載的部分內容，據此判斷，其最可能在探討下列何者之間的關係？〔101.基測〕

該公司為提高銷售量，將網路上尚未經查證的消息直接刊登於雜誌上，並大肆渲染，使雜誌銷售量大增。事後證實根本沒有這回事，然而此舉不但混淆社會視聽，也造成當事人極大的困擾。

(A)行銷策略與降低成本 (B)科技運用與創造利潤 (C)經營自由與市場價格 (D)商業利益與社會責任。

答案：(D)

解析：企業經營為了營利而假造新聞，對當事人及社會大眾產生負面影響，顯然未善盡企業的社會責任。

16. () 幾個同學正在討論購物的猶豫期，下列哪一位同學的消費行為符合法律規定？

(A) 我把網購的音樂光碟拆封，聽完才考慮要不要購買。 (B) 我買了牛奶忘記喝，結果超過保存期限，想拿去退。



(C) 我在3C賣場買手機，回家使用才發現是瑕疵品，決定退換貨。 (D) 我從電視購物訂衛生用品，用了一些覺得不喜歡，準備退回去。



答案：(C)

解析：實體店面購買的商品無7天猶豫期，但瑕疵品除外；網購、電視購物等雖有猶豫期的法律保障，但保存期短的商品、已開封的影音商品和個人衛生用品例外。

17. () 湘庭在做報告時負責準備生產模式的部分，下列何項說明應是他對「一日之所需，百工斯為備」的認知？ (A)依賴他人提供生活所需，將提高大幅成本 (B)在市場進行交易者，往往未經過理性考量 (C)個人日常需要的物品

是許多人付出的成果 (D)人類應自給自足，才能創造最大的經濟效益。

答案：(C)

解析：每個人專司其職，再透過市場交易滿足一天所需要的物品。

18. () 在原始社會中，人類透過「以物易物」的方式，來滿足日常生活所需，但這樣的方式不僅耗時費力，而且交易不容易達成，後來人類如何解決此問題？ (A)增加交易的處所 (B)使用貨幣做為媒介 (C)消費品由政府統一配給 (D)開闢自由競標市場。

答案：(B)

解析：為讓交易過程更簡易，因此產生交易的共同媒介——貨幣。


19. () 現代社會，可以透過多種方式進行交易。下列何人不是使用「新型態的支付工具」來消費？

(A) 我用信用卡買了一雙球鞋。

(B) 我透過智慧手機購買電影票。

(C) 我投了20塊錢硬幣坐公車。

(D) 我在超商用儲值卡買咖啡。



答案：(C)

解析：(C)硬幣是法定貨幣。

20. () 好久不見的曼殊和右勝相約咖啡廳喝下午茶，兩人正在分享彼此未來的行程，請根據附圖中對話判斷，下列敘述何者正確？

我下週要出發去日本留學，現在的匯率正適合我購買日圓。

我下週要去英國旅遊，最近的匯率不適合購買英鎊，我過幾天再去兌換。

曼殊

右勝




(A)日圓與英鎊的匯率相同 (B)目前日圓升值 (C)目前英鎊升值 (D)右勝欲購買的是最常使用的外幣。

答案：(C)

解析：(A)不同(B)貶值(D)美金是最常使用的外幣。

21. () 附圖是一則網路新聞，文末的徵才要求是強調「就業」應具備哪一個條件？



年後轉職潮一波接一波，加上去年受到疫情衝擊，不少人失業，所以各地就業服務站每週舉辦徵才。如中華電信子公司宏華國際，開薪資4萬元以上，招攬有相關證照的網路技術人才。

(A)有工作能力 (B)有工作意願 (C)有找尋工作 (D)有目標理想。

答案：(A)

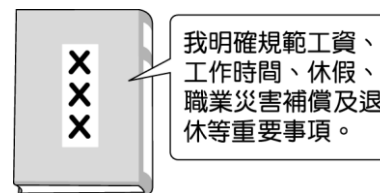
解析：有相關證照代表具有相關工作能力。

22. () 企業家庭日是一個能藉由一同參與團體活動，達到員工及眷屬對公司文化與核心價值的認同，並凝聚企業士氣的活動。根據上述內容判斷，企業舉辦家庭日的目的為下列何者？ (A)提高員工的生產力 (B)提高員工的向心力 (C)提升員工的判斷力 (D)提升員工的競爭力。

答案：(B)

解析：「達到員工及眷屬對公司文化與核心價值的認同」指的就是向心力。

23. () 學亮為完成學校報告，至圖書館借相關書籍來參考。附圖為他在書中看到的擬人化圖像。請問：此部法律應為下列何者？



我明確規範工資、工作時間、休假、職業災害補償及退休等重要事項。

(A)《就業保險法》 (B)《勞動基準法》 (C)《民法》 (D)《憲法》。

答案：(B)

解析：圖中內容為《勞動基準法》所規範。