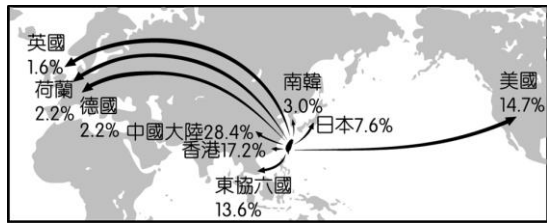


單一選擇題

地理

1. ()附圖是2005年臺灣出口到各國的貿易值比例。根據圖中的資料，下列敘述何者正確？



(A)日本向臺灣進口最多產品 (B)歐盟國家與臺灣亦有貿易活動 (C)臺灣為北美自由貿易區之成員 (D)臺灣進口最主要的來源是中國大陸。

2. ()附圖為描述人口移動的漫畫。圖中人們的對話，何者和「城市拉力、農村推力」較無關係？



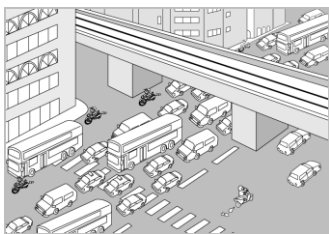
(A)阿如 (B)老王 (C)小玉 (D)小李。

3. ()附圖灰色部分為某電信業者手機通訊服務範圍，該範圍的分布與下列何者最有關係？



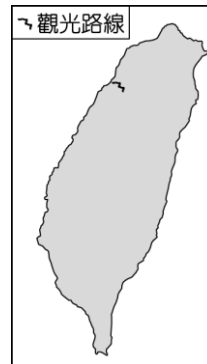
(A)人口密度 (B)地勢高低 (C)距海遠近 (D)縣市分界。

4. ()附圖是連接都市和郊區的直線道路的部分路段。若當時是下班時間，請根據圖中景象判斷，都市和郊區的對應位置與當時的人潮流向最可能為下列哪一項？



- (A) (B) (C) (D)

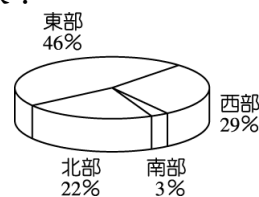
5. ()交通部觀光局推出「臺灣好行」觀光巴士，規畫許多觀光路線，藉此行銷臺灣各地區的獨特魅力。附圖顯示其中一條規畫的路線，此路線的觀光特色主要為下列何者？



(A)糖廠文化 (B)客家文化 (C)鹽田景觀 (D)戰地風光。

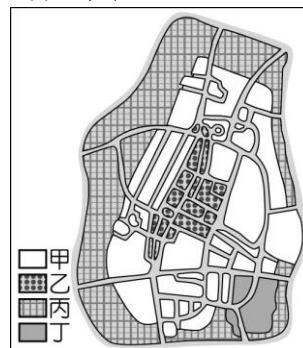
6. ()有一句電視汽車廣告詞說：「一臺車『凸』全臺灣。」畫面上的車子馳騁於大街小巷及山野林徑間。這句話最可能用來形容公路運輸的哪一項特性？ (A)載貨量較小 (B)機動性較強 (C)長途運費高 (D)修築成本低。

7. ()附圖為幸福國四個地區的商業營業場所數量比例圖(圓餅圖)。從圖中資料，可知東部具有下列哪一項特徵？



(A)商業比工業發達 (B)工業比商業發達 (C)商業營業場所比其他地區多 (D)大型商業營業場所比其他地區多。

8. ()附圖為發達市的土地使用分區圖。若這個城市的商業區位於道路交通的樞紐地帶，圖中的哪一圖例最可能代表商業區？



(A)甲 (B)乙 (C)丙 (D)丁。

9. ()「日本近年來出現一種『漁師體驗』活動，遊客除了可跟漁夫一同出海捕魚外，也可以到海邊挖珍珠、享用生魚片。每年3月到9月，長崎平戶這個漁港常有許多來此當『一日漁夫』的觀光客。」上述活動最適合作為說明下列何者的實例？

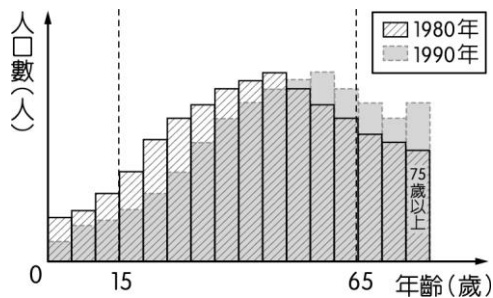
(A)環境的永續經營 (B)休閒農業的興起 (C)精緻農業的推廣 (D)商業性農業崛起。

10. ()附圖中的詩句摘錄自某首描述臺東的新詩，詩中關於「太陽」的敘述，主要是與當地哪一項環境特性有關？



- (A)都市化程度低 (B)鄰近北回歸線 (C)位於臺灣東岸 (D)為板塊交接帶。

11. ()國科會研發的「超集約養殖系統」可減少90%以上水產養殖用水，此系統若推廣成功，可減緩臺灣西部的哪一災害？(A)乾旱 (B)土石流 (C)地層下陷 (D)溫室效應。
12. ()電腦的發明，造成工業生產自動化，產量大幅提高。請問：這種科技的發展，主要會降低哪一項生產因素的成本？(A)原料 (B)動力 (C)市場 (D)勞工。
13. ()附圖為某國1980年與1990年人口年齡分布資料的重疊比較圖。由圖中內容判斷，相較於1980年，下列關於該國1990年人口變化的敘述何者正確？



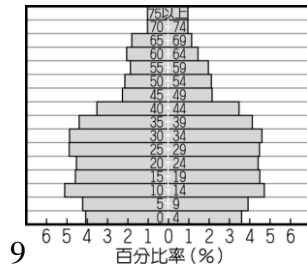
- (A)高齡化日益顯著 (B)青壯年持續增加 (C)少子化日漸趨緩 (D)扶養比逐漸變小。

14. ()游小虎喜歡到超便宜量販店購物，因為商品多樣、價格便宜，一次可以購足一月所需，但是量販店多設在大都市的郊區，距離較遠，往往要開車前往。請問：量販店選擇郊區作為商場位置的主要原因為何？(A)地形較平坦 (B)土地較便宜 (C)市場較廣大 (D)交通較便利。
15. ()附表是某地區三級產業的就業人口比例資料，從表中可直接看出此地具有下列何種產業特色？

產業分類	人口比例(%)
第一級	0.2
第二級	33.0
第三級	66.8

- (A)服務業發達 (B)以農牧業為主 (C)科學技術先進 (D)加工製造比例最高。

16. ()「大龍住在臺灣海拔800公尺的山間盆地，小時候家中種植各種蔬果維生，現在則專門種植香菇，運銷到臺灣各地。」請問：這種土地利用的轉變屬於下列何種現象？(A)多元化 (B)都市化 (C)商品化 (D)標準化。
17. ()附圖是臺灣地區某年的人口金字塔圖，由圖中資料可得知下列何項正確訊息？



- (A)幼年人口中男生比女生少 (B)以壯年人口所占比例最高 (C)出生率高達千分之三十以上 (D)該年自然增加率約為千分之十。
18. ()怡君在留學期間和美國人安東尼結婚，畢業後與丈夫回臺灣定居，五年內生了愛君和愛尼兩個小孩。請問：愛君和愛尼的出生，對於臺灣人口數的改變屬於下列哪一種情形？〔92.第一次基測〕(A)國外移動 (B)拉力因素 (C)自然增加 (D)社會增加。
19. ()近年來許多農場成為民眾假日休閒的好去處。請問：這與臺灣農業的哪項經營特色有關？(A)耕地狹小 (B)農業高度集約 (C)休閒農業興起 (D)農業技術先進。

題組

1. 請閱讀下列短文後回答下列問題：

臺灣屬海島型經濟體系，受限於幅員狹小、自然資源匱乏，以及國內市場有限等因素，出口導向成為經濟成長的動力。

經濟部為了要提升臺灣產品品質，加強自有品牌與自主設計能力，並推廣優良商品的國際形象宣傳，設置「臺灣精品」標誌，作為優良產品之共同標誌，辦理「臺灣精品」評審，凡獲選產品即可使用「臺灣精品標誌」在國內外進行推廣。

因此臺灣製造業需由過去重視製程效率的提升，轉向產業技術與價值的提升，才足以面對全球化的來臨，以優良的技術為基礎，積極培養軟實力，以品牌之路創造永續經營的契機，貿易商也要尋求買賣傳遞之外的出口，才能在世界舞臺爭得一席之地。

- () (1)臺灣屬海島型經濟的地區，其經濟的發展必須仰賴下列何種經濟活動？(A)國際貿易 (B)內銷產業 (C)傳統集約農業 (D)商業性穀物農業。
- () (2)臺灣早期擁有價廉、質優的勞工，產業發展主要特色為何？(A)資本密集 (B)勞力密集 (C)技術密集 (D)原料密集。
- () (3)臺灣產品朝技術創新、特色產品開發及營運模式改善，協助傳統產業在質與量全面升級，其具備的工業特徵包括下列哪些？(甲)高附加價值(乙)外銷潛力大(丙)技術密集度高(丁)原料需求量大 (A)甲乙丙 (B)甲乙丁 (C)甲丙丁 (D)乙丙丁。

2. 附表為翰林國的人口資料，請閱讀資料後，回答下列問題：

人口總數	年齡結構

20,000	0~14 歲		15~64 歲		65 歲以上	
	比例	20%		60%		20%
	人數	男性	1,900	男性	5,900	男性
女性		2,100	女性	6,100	女性	1,850

- () (1) 翰林國國土總面積為 4,000 平方公里，請問：該國人口密度為何？（請取整數） (A) 5 人/km² (B) 7 人/km² (C) 9 人/km² (D) 11 人/km²。
- () (2) 請問：翰林國的性別比為何？（請取整數） (A) 105 (B) 103 (C) 101 (D) 99。
- () (3) 請問：翰林國的扶養比為何？（四捨五入至小數點第一位） (A) 39.6% (B) 43.8% (C) 58.9% (D) 66.7%。

歷史

1. () 西元 1920 年代，臺灣有識之士成立了「臺灣文化協會」，為了凝聚臺灣人的民族意識以及提高臺灣的文化，致力於下列哪一種社會運動？ (A) 推翻君主專制 (B) 要求土地所有權 (C) 推行皇民化運動 (D) 傳播新知，啓迪民智。
2. () 附圖是日治時期的一張宣傳海報，內容是「時間是金，時間不待，請互相遵守時間」。請問：這是哪一種運動的宣傳海報？



- (A) 放足 (B) 斷髮 (C) 守法 (D) 守時。
3. () 附表是近年來臺灣社會所發生的重要記事。請問：根據內容判斷，下列何者最可能是影響這些社會變革的客觀條件？

民國 (年)	記事
76	臺澎地區解除戒嚴。
80	終止動員戡亂時期。
85	首次總統、副總統直接民選。

- (A) 人權與自由 (B) 宗教與習俗 (C) 科技與經濟 (D) 倫理與道德。
4. () 日本統治期間，統治者運用警察制度嚴密控制臺灣社會，當時原住民頭目因不滿日本官吏高壓統治，起而率眾抗爭，爆發了下列哪一事件？ (A) 劉永福抗日 (B) 牡丹社事件 (C) 噶吧嘒事件 (D) 霧社事件。
5. () 從民國 41 年到 85 年，臺灣的都市人口占總人口的比例由 29% 提升至 70% 以上。此種現象的形成和下列何者有最直接的關係？〔96. 第一次基測〕 (A) 實施家庭計畫 (B) 國民教育的普及 (C) 糧食產量增加 (D) 工商產業發達。
6. () 爺爺常想起他年輕時候，當時社會風氣良善，經常以「夜不閉戶」形容治安。而治安良好與下列何者較無關係？ (A) 設置法院 (B) 由武官擔

任總督 (C) 以警察與保甲方式管理人民 (D) 以宣導與教育方式灌輸法治觀念。

7. () 清朝統治後期，臺灣開始推動一些近代化建設；日治時期，進一步拓展了臺灣的建設規模，為日後經濟發展奠定基礎。下列何者是這兩個時期共同的建設項目？ (A) 改革幣制 (B) 興築鐵路 (C) 公共衛生 (D) 人口普查。
8. () 中華民國播遷來臺灣時，臺海形勢原本頗為緊張，後因哪場戰爭爆發，美國派軍艦協防臺灣海峽，並給予我國協助？ (A) 韓戰 (B) 越戰 (C) 八二三炮戰 (D) 古寧頭戰役。
9. () 我國政府發布文告：「海內外全體同胞們：第 26 屆聯合國大會違反《憲章》規定，通過阿爾巴尼亞等附匪國家之提案，牽引毛共匪幫竊取中華民國在聯合國及安全理事會中的席位；我們本『漢賊不兩立』之立場及維護《憲章》之尊嚴，已在該案支付表決之前，宣布退出所參與締造的聯合國……」。請問：此文告最有可能是民國哪一年發布的？ (A) 36 年 (B) 38 年 (C) 60 年 (D) 68 年。
10. () 日本的治臺政策常因應外在環境做改變，請問：在哪一場戰爭之後，全球瀰漫著民族自決的思潮，使日本對臺灣改採「內地延長主義」？ (A) 中法戰爭 (B) 甲午戰爭 (C) 第一次世界大戰 (D) 1937 年中日戰爭。
11. () 小蘭閱讀臺灣歷史，發現原來臺灣曾經有成立過曇花一現的「臺灣民主國」，請問：下列哪一位是臺灣民主國「第一位」也是「最後一位」總統？ (A) 劉永福 (B) 劉銘傳 (C) 唐景崧 (D) 丘逢甲。
12. () 毛阿馨記得小時候經常可以看到學校圍牆上寫著「反共抗俄」、「解放大陸同胞」等精神標語。由此可知，當時政府對海峽兩岸抱持何種態度？ (A) 三通 (B) 光復大陸 (C) 一國兩制 (D) 開放大陸探親。
13. () 日本占領臺灣後，日人為了增加財政收入，曾實施專賣制度，由政府獨占經營。請問：下列哪項物品，被日人列為專賣商品之一？ (A) 鴉片 (B) 茶葉 (C) 甘蔗 (D) 稻米。
14. () 附表是民國 70 年代以後，臺灣所出現的部分社會運動，根據內容判斷，下列哪一項為表中四種社會運動所共同具有的特性？

興起時間	社會運動
民國 71 年	女權運動
民國 76 年	農民運動
民國 79 年	車禍受難者救援運動
民國 81 年	雛妓救援與終止運動

- (A) 以獲取社會資源為最終目標 (B) 以促進社會民主發展為目的 (C) 以爭取社會公平正義為訴求 (D) 均採用暴力抗爭活動為手段。
15. () 小靜閱讀臺灣歷史書籍，發現一直要到 1905 年，

臺灣才實施第一次的人口普查。請問：這是臺灣歷史上的哪個時期？ (A)鄭氏時期 (B)清領前期 (C)清領後期 (D)日治時期。

16. ()附表是臺灣自耕地與佃耕地的比例變化。請問：之所以會出現這種變化的主要原因為下列何項？

項目	民國 37 年	民國 42 年	民國 45 年
自耕地	56%	83%	85%
佃耕地	44%	17%	15%

- (A)美麗島事件後的土地賠償 (B)中華民國政府遷臺後的土地改革 (C)清領時期結束，將土地歸還給人民 (D)高科技產業發達後，帶動農業發展。
17. ()民國 76 年是兩岸關係邁入新紀元的一年。這一年我國政府除了解除戒嚴之外，更推動了下列哪一項事務？ (A)兩岸軍備交流 (B)兩岸直接通航 (C)完成一國兩制 (D)開放民眾赴大陸探親。
18. ()日本治臺時期，總督府得以瓦解可能存在的反抗勢力，而且能確實掌握臺灣的戶口，奠定堅實的統治基礎，與下列何者「最」有關係？ (A)《六三法》 (B)日本軍隊 (C)皇民化運動 (D)警察與保甲制度。
19. ()小敏回憶道：「民國 60 年代的兩次能源危機使許多中小企業倒閉，幸賴政府推動某項經濟建設，協助產業界渡過災難」。請問：小敏指的「某項經濟建設」應是下列何項？ (A)十大建設 (B)政府積極拓展外銷 (C)全力發展高科技產業 (D)推動貿易自由化、國際化。
20. ()毛奶奶正在教孫子們唱歌：「張燈結綵喜洋洋，勝利歌兒大家唱，唱遍城市和村莊，臺灣光復不能忘……」毛奶奶說這是當年慶祝臺灣光復的歌曲，至今仍讓她懷念不已。請問：這首歌是為了慶祝臺灣脫離下列哪個政權的統治？ (A)荷蘭 (B)鄭氏 (C)清朝 (D)日本。
21. ()西元 1930 年代以後，臺灣總督府在臺灣積極推動工業化，下列何者是其主要目的？ (A)使臺灣成為南進的補給基地 (B)改善臺灣的經濟，提升人民的生活水準 (C)使臺灣成為日本國內工業零組件的供應地 (D)有效利用臺灣的資源，促進臺灣工業的發展。
22. ()臺灣西部河川多東西流向，造成早期南北陸路交通不便。請問：要到何時，臺灣南北陸路交通開始通行無礙，此種現象獲得改善？ (A)荷蘭時期的海外貿易 (B)鄭氏時期的農業拓墾 (C)清領後期的開港通商 (D)日治時期的基礎建設。
23. ()民國 38 年政府來臺，在缺乏豐富天然資源的條件下，締造出眾所矚目的臺灣經濟奇蹟。當時政府最先實施哪一方面的改革，奠定日後經濟發展的基礎？ (A)國防 (B)土地 (C)貿易 (D)教育。
24. ()為方便研究，我們常依不同特色或性質將歷史分

為若干階段或時期，下列有關臺灣歷史分期的發展順序，何者正確？ (A)荷蘭統治→鄭氏統治→清朝統治→日本統治 (B)荷蘭統治→鄭氏統治→日本統治→清朝統治 (C)荷蘭統治→清朝統治→鄭氏統治→日本統治 (D)鄭氏統治→荷蘭統治→清朝統治→日本統治。

25. ()圖一是筱方暑假去某外島旅遊，在當地景點拍攝的照片。由照片內容推測她應是去圖二哪一地點？



▲圖一



▲圖二

- (A)甲 (B)乙 (C)丙 (D)丁。

公民

1. ()若依我國《人民團體法》的規定區分，下文中提到的「中亞協會」最可能屬於下列哪一性質的團體？

1993 年，登山家摩頓森攀登位於巴基斯坦及中國邊境的世界第二高峰 K2，結果失敗。他在回程途中誤入一個偏僻的小村莊科爾飛，因受到村民的悉心照顧而心存感激。他在這個穆斯林村莊裡，看到孩童因缺乏教育設施，在寒風中練字讀書，決心為他們蓋一所學校。回美國後，他勤儉儲蓄並四處募款，備極艱辛，終於達成心願。後來他更擔任中亞協會的會長，持續募款，與當地宗教領袖及居民合作興學，截至 2008 年為止，替巴基斯坦、阿富汗等地偏遠村莊的孩子們蓋了 70 餘間的學校，為這些貧窮動亂地區的孩子提供受教機會。

- (A)政治團體 (B)職業團體 (C)社會團體 (D)經濟團體。
2. ()根據行政院主計總處統計資料顯示，臺灣幾乎每個人都有一隻手機，行動電話普及率將近百分之百。但時常聽見有人在應該保持安靜的場所讓手機發出聲響，例如：教堂、教室、電影院等，影響到秩序和他人的權益。這種手機普及程度和手機禮儀發展速度不一致的現象，屬於下列哪個概念的意涵？ (A)文化失調 (B)文化變遷 (C)文化震撼 (D)文化斷層。
3. ()老子哲學中提到「守柔」，認為事物太過於剛強則容易斷折，例如：舌頭軟而牙齒硬，但隨著時間的經過，牙齒都掉光了，舌頭卻還在，其主要

目的是在教導人們要謙卑遜讓，以退為進。這種對生命抱持的態度是屬於文化的何種層次？(A)器物層次 (B)制度層次 (C)理念層次 (D)藝術層次。

4. () 1927年蔣渭水等人組臺灣民眾黨，這是臺灣歷史上第一個合法的政黨，曾舉辦多次演講會，討論民權、自治等概念。請問：下列哪個團體與臺灣民眾黨屬於同一類型的人民團體？(A)臺灣客家協會 (B)臺灣鐵路工會 (C)臺灣原住民族自治聯盟 (D)喜憨兒社會福利基金會。
5. () 公民老師在課堂上說明關於「價值觀念變遷」的主題，並請四位同學舉出適當的例子加以說明。下列哪一位同學舉出的例子，最符合上述主題？(A)阿智：網際網路科技發達 (B)小強：性別平等意識抬頭 (C)美美：立法委員席次調整 (D)小明：大眾捷運系統普及。
6. () 智梨在一場演講中看到以下的資料，根據內容所述，促成各項法案制定的主要因素與下列何者有關？

第一波(1970年代)：女性勞動參與率與大學錄取率逐年增長。
 第二波(1980年代)：婦女團體陸續成立。
 第三波(1987年)：婦女團體第一次走上街頭，發起關懷雛妓行動。
 第四波(1990年代至今)：推動各項婦女保護政策與法律的落實。

- (A)自然環境的改變 (B)外來文化的刺激 (C)科技的創新發明 (D)社會運動的推動。
7. () 附圖是心理學中有關某種社會行為的部分解釋。根據內容判斷，下列何者最適合作為其推論？

窗戶破了，長時間沒人去修補，路人經過時會認為這是無人管理的地方，隔不久其他窗戶也會莫名其妙被打破。同樣的，一個乾淨的地方，人們會不好意思丟垃圾，但若有垃圾出現，人們就會跟著隨地丟棄。

- (A)研發強固的門窗與治安的改善息息相關 (B)增加監視系統數量以保護人民居家安全 (C)社會問題初期顯現應立即處理以免擴大 (D)處理公眾事務要視輕重緩急的程度著手。
8. () 團體是指由兩個或兩個以上的個人所組成，對團體有歸屬感，享有共同的規範，依據共同目標進行互動與溝通。下列何者符合團體的定義？(A)電影院的觀眾 (B)參與太陽花學運的學生 (C)在偶像簽唱會排隊的粉絲 (D)無敵國中校友會。
9. () 勞動部對於颱風天勞工是否要出勤表示：「雇主應以安全為首要考量，如果有違反《勞動基準法》規定的狀況，勞工可撥打『1955』專線申訴。」依據《勞動基準法》，若雇主違反規定內容，所須承擔的處罰方式為下列何者？(A)國家公

權力的處罰 (B)超自然力量的處罰 (C)媒體的批評 (D)良心的譴責。

10. () 四位同學正在討論對團體的看法，下列哪個人的觀念較為正確？(A)小芬：「加入團體是大人的事，國中生不用參與。」(B)小珊：「加入團體能結交好朋友，所以我們可以加入幫派。」(C)小君：「參與團體可凝聚眾人力量，影響社會發展。」(D)小威：「唯有參與公益團體，才能促進個人成長。」
11. () 以下文中所提到的依「法」，是指下列何項法律？

內政部表示依法設立的政黨須先召開成立大會，於會後30天內，檢具章程、會員名冊等資料，向內政部申請備案後，程序才完成。

- (A)《民法》 (B)《人民團體法》 (C)《公職人員選舉罷免法》 (D)《組織犯罪防制條例》。
12. () 下列四位同學對於「文化」的描述，何者正確？



- (A)小芬 (B)小珊 (C)小文 (D)小蕙。
13. () 「囧」原義為光明、明亮，現常被當作網路上的一種臉孔符號，以表達皺眉、失意、不知所措等情緒，青少年網友經常使用。上述的網路用語，屬於現代社會文化中的哪種型態？(A)次文化 (B)主流文化 (C)大眾文化 (D)上流文化。
14. () 華人向來認為「4」是不吉利的數字，車牌及手機號碼都會避開「4」。上述觀念是受到下列哪種社會規範的影響？(A)風俗習慣 (B)法律規定 (C)宗教信仰 (D)倫理道德。
15. () 老師在課堂上介紹完文化的特徵後，抽籤點了四位同學，要他們分別對各個特徵舉例。根據附表的内容判斷，下列哪一位同學的回答內容最不適當？〔105.年會考〕

特徵	同學	回答內容
差異性	小周	古代書寫的隸書、楷書，逐漸演變成我們今日所使用的文字。
普遍性	阿星	世界各地的人們，大多都有與家人、親戚一同慶祝團聚的習俗。
制約性	琪琪	我國修改交通法規，規定乘坐小客車後座的乘客應繫上安全帶。
累積性	小貞	從腳踏車至汽、機車，人們發明更舒適的交通工具

往來各地。

(A)小周 (B)阿星 (C)琪琪 (D)小貞。


16. ()為打擊幫派組織犯罪、維護社會秩序，政府特別制定下列哪項法律來因應？ (A)《憲法》 (B)《人民團體法》 (C)《性別工作平等法》 (D)《組織犯罪防制條例》。
17. ()若想要成立人民團體，必須依據《人民團體法》的規定向內政部登記立案。請問：一般而言，臺灣下列哪個地區登記的人民團體比例應會最低？ (A)東部 (B)西部 (C)南部 (D)北部。
18. ()根據下述內容，下列何者最符合該修法的用意？

政府規定身高 115 公分以下或 6 歲以下兒童皆可免費，但許多私人單位或店家，多僅以身高做為優惠標準，對於長得高的孩童非常不公平。立法院遂修法規定國內餐廳、文教及休閒娛樂設施，給予兒童的優惠收費標準，應以「年齡」作為依據，而非採「身高」為標準。

- (A)保護弱勢權益 (B)縮短貧富差距 (C)促進社會互動 (D)提高生育意願。
19. ()標榜頂級奢華的貴婦百貨在台北市信義區開幕，同一時間主計處公布國內失業率不斷升高。兩相對照之下表示臺灣何種社會問題日益嚴重 (A)高齡化社會 (B)青少年犯罪 (C)社會失序現象 (D)貧富差距擴大。
20. ()明華園歌仔戲的劇碼《鴨母王》，劇中出現撐洋傘、穿洋裝的「阿逗仔」，其可呈現下列何項意涵？ (A)主流文化 (B)文化創新 (C)文化失調 (D)文化傳承。
21. ()下列關於主流文化與次文化的比較，何者正確？

	(A) 組成 原因	(B) 成員 規模	(C) 等級	(D) 實例
主流 文化	社會當中特 定團體的價 值和信念	較小	較高	流行樂
次文化	社會當中多 數人的價值 和信念	較大	較低	古典樂

22. ()勞動部對於颱風天勞工是否要出勤表示：「雇主應以安全為首要考量，如果有違反《勞動基準法》規定的狀況，勞工可撥打『1955』專線申訴。」上述內容說明下列哪種事實？ (A)以道德的力量約束雇主 (B)以宗教的力量感化人心 (C)以法律規範外在行為 (D)以各種社會規範共同降低颱風的損害。
23. ()阿力到某地觀光，看到附圖的狀況，可見此地的人們缺乏下列哪種倫理觀念？



- (A)五倫 (B)第六倫 (C)校園倫理 (D)家庭倫理。
24. ()兒福聯盟調查發現，都會區學童放學後常直奔才藝班，假日參加營隊活動、看展覽；但偏遠地區卻出現很多「宅童」，生活經驗狹隘，缺乏文化的刺激。上述社會現象，說明臺灣社會呈現何種問題？ (A)青少年犯罪率上升 (B)少子化 (C)貧富差距擴大 (D)人際關係疏離。
25. ()隨著生活水準的提高，現代人上廁所時多使用衛生紙來清潔；但在從前，古代的沙烏地阿拉伯人使用沙子、中國人使用竹杓、尼泊爾人使用樹皮等，來進行清潔的工作；至今，有些印度人仍有使用左手汲水清潔的習慣。請問：上述現象呈現出文化的哪項特徵？ (A)普遍性 (B)差異性 (C)累積性 (D)制約性。

地理

1 BDAAB 6 BCBBC 11 CDABA 16 CBCCA 21 BAADD

歷史

1 DDADD 6 BBACC 11 CBACD 16 BDDAD 21 ADBAB

公民

1 CACCB 6 DCDAC 11 BDAAA 16 DAADB 21 DCBCB