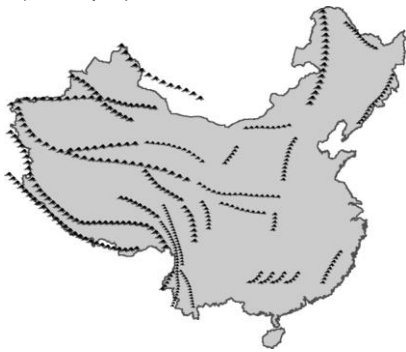


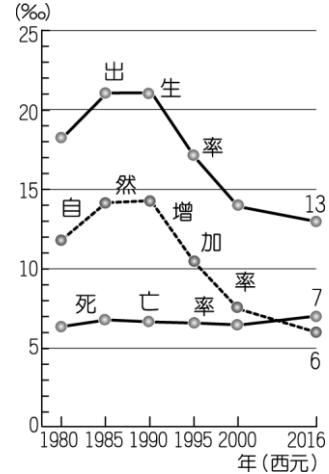
一、單一選擇題

- () 中國為世界上面積第四大的國家，其疆域內的主要地形以下列何種地形所占的面積比例最低？ (A)平原 (B)丘陵 (C)山地 (D)盆地。
- () 農業活動的分布受到氣候及地形的影響。請問：中國的東南半部平原地區，最主要生產的經濟作物多為下列何者？ (A)甜菜 (B)小麥 (C)甘蔗 (D)水稻。
- () 中國於東南沿海設立經濟特區後，吸引國外廠商紛紛前往投資設廠。中國經濟特區發展工業的主要區位條件為何？ (A)原料 (B)動力 (C)市場 (D)勞工。
- () 目前中國直轄市的設立標準，最主要是依據下列哪一項指標而加以制定？ (A)政治經濟 (B)歷史文化 (C)國防位置 (D)面積大小。
- () 中國境內的山地面積比例高達 33%，居各種地形之冠。附圖為中國山脈的分布圖，請問：影響其走向的主要原因為何？



- (A)板塊擠壓方向 (B)岩層種類軟硬 (C)主要河川流向 (D)盛行季風風向。
- () 下列哪一種地圖最適合用來表示中國人口分布的疏密狀況？ (A)圓餅圖 (B)柱狀圖 (C)曲線圖 (D)點圖。
 - () 附圖為中國出生率、死亡率、自然增加率統計圖，請由圖中資料加以判斷，該國開始實施一胎化後，出生率自

何時以後開始快速降低？



- (A) 1985 年 (B) 1990 年 (C) 1995 年 (D) 2000 年。
- () 中國的哈爾濱地區，每年均以「冰雪節」來吸引大量的遊客，成為當地的特色。該地舉辦「冰雪節」的有利條件為何？ (A)緯度較高 (B)地勢較高 (C)地形平坦 (D)溫度較高。
 - () 氣溫的分布和太陽照射的影響最大，中國在哪一個季節南北之間的溫差最大，差距近 50°C？ (A)春季 (B)夏季 (C)秋季 (D)冬季。
 - () 觀察中國的人口分布現象，其中以下列哪一種自然條件的區域最容易形成人口集中的分布區？ (A)季風氣候區、高原 (B)季風氣候區、平原 (C)乾燥氣候區、盆地 (D)乾燥氣候區、高原。
 - () 中國境內的各種地形中，高原占地面積廣大，主要有四大高原，其中以下列哪一個高原的海拔高度最高？ (A)內蒙古高原 (B)青藏高原 (C)雲貴高原 (D)黃土高原。
 - () 冬季時，影響中國的冷氣團主要源自下列哪一個地區？ (A)青藏高原 (B)東北平原 (C)北極海 (D)內蒙古高原。
 - () 中國面積廣大，陸上鄰國眾多，下列哪一個國家為中國西側的陸上鄰國？

- (A)北韓 (B)俄羅斯 (C)阿富汗
(D)越南。
14. ()中國西半部內陸地區因為哪一個季節所盛行的季風不易到達，普遍降水量不多，形成乾燥氣候的分布特色，對當地的產業活動影響甚大？(A)春季 (B)夏季 (C)秋季 (D)冬季。
15. ()中國三大經濟帶的人口、產值各不相同，請問：影響西部經濟帶發展狀況的因素，不包括下列哪一項？(A)地形崎嶇 (B)面積狹小 (C)氣候乾燥 (D)交通不便。
16. ()中國科學院的專家研究發現，在附圖中丙處地區的凍土層分布最為廣泛。請問：這和當地何種自然條件關係最大？

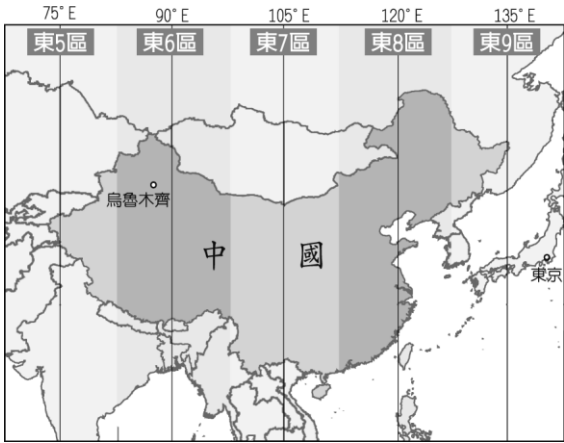


- (A)風力強勁 (B)地形陡峭 (C)氣溫嚴寒
(D)降水稀少。
17. ()內流河與外流河的分布受到當地氣候環境的影響相當密切。請問：中國的內流河分布區域和下列哪一個氣候區的分布範圍最為相近？(A)季風氣候 (B)乾燥氣候 (C)高地氣候 (D)溫帶氣候。
18. ()中國境內目前正實施多項環境保護相關工程，其中有「綠色長城」之稱的為下列何種工程？(A)築堤 (B)建壩 (C)造林 (D)圍湖。
19. ()中國近年來出現日益嚴重的荒漠化現象，影響面積逐漸擴大。請問：該國荒漠化地帶主要分布於下列哪一個地區最多？(A)南部沿海 (B)南部內陸 (C)北部沿海 (D)西部內陸。

20. ()中國近年來積極施行的「南水北調」工程，最主要是要解決哪一個地區的缺水問題？(A)南部地區 (B)西北地區 (C)北部地區 (D)青藏地區。
21. ()黑龍江省漠河縣北極村為中國地理位置最北的村鎮。若前往該地旅遊，可以在中國與哪一個鄰國的國界線上拍照留念？(A)北韓 (B)日本 (C)俄羅斯 (D)蒙古。
22. ()中國東部的地理環境有利於何種產業活動的分布，因此成為人口集中的稠密區？(A)農業 (B)礦業 (C)牧業 (D)林業。
23. ()中國人口成長快速，人口總數近 14 億，人口壓力大。請問：中國龐大的人口總數所面臨的第一個社會問題為何？(A)教育問題 (B)糧食問題 (C)醫療問題 (D)交通問題。
24. ()中國的少數民族自治區多分布於邊疆地區，附圖中的滿洲里為中俄之間的國門，其位於哪一個少數民族自治區中？



- (A)新疆維吾爾自治區 (B)西藏自治區
(C)內蒙古自治區 (D)寧夏回族自治區。
25. ()附圖為中國時區圖，請問：中國境內統一以哪一個時區作為標準時間？



(A) 東 6 區 (B) 東 7 區 (C) 東 8 區 (D) 東 9 區。

解答：

- 1.(B) 2.(C) 3.(D) 4.(A) 5.(A)
- 6.(D) 7.(B) 8.(A) 9.(D) 10.(B)
- 11.(B) 12.(D) 13.(C) 14.(B)
- 15.(B) 16.(C) 17.(B) 18.(C)
- 19.(D) 20.(C) 21.(C) 22.(A)
- 23.(B) 24.(C) 25.(C)