

社會 範圍：

年 班 座號： 姓名：

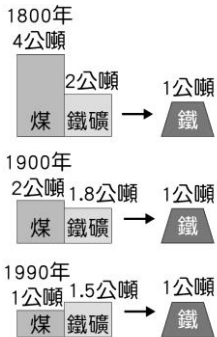
一、選擇：

1. ( ) 西元 1990 年李登輝總統成立「二二八事件專案小組」調查歷史真相，1995 年建立二二八紀念碑。下列關於「二二八事件」的描述，何者正確？ (A)因臺人抗拒陳儀接收臺灣而引起的 (B)因陳儀處置失當而讓亂事擴及全島 (C)軍隊的鎮壓行動僅限於北部 (D)此事件發生當時，政府公開道歉。

《答案》B

詳解：李登輝擔任總統時才公開道歉。

2. ( ) 附圖為製造 1 公噸生鐵所需原料的變化圖，由於交通革新與冶煉技術的進步，使得鋼鐵工廠的生產條件已經改變。同時，許多新設的鋼鐵工廠大量使用廢鐵，使得工廠多設於都市附近。鋼鐵工廠的設廠條件變化趨勢為下列何者？ (A)原料→交通 (B)動力→市場 (C)原料→市場 (D)交通→政策。



製造1公噸生鐵所需原料的變化

《答案》C

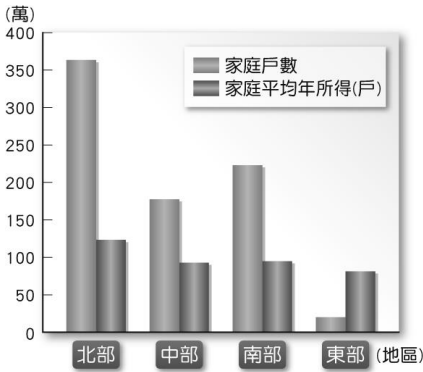
詳解：工廠原選擇設於原料附近，現因生產條件的改變，工業設廠條件轉變為市場。

3. ( ) 古代泰雅族人只有善於狩獵的男子與善於織布的女子才得以紋面。請判斷下列敘述何者正確？ (A)這並不算是泰雅族文化的展現 (B)屬於泰雅族相沿成習的風俗習慣 (C)若擅自紋面將遭受政府公權力的處罰 (D)此反映出泰雅族判斷是非善惡的標準。



《答案》B

4. ( ) 附圖為臺灣四大區域的家庭平均年所得比較，由此圖可得知下列何項地理事實？ (A)區域間差異大 (B)人口密度增加 (C)人均所得下降 (D)一級產業發達。



《答案》A

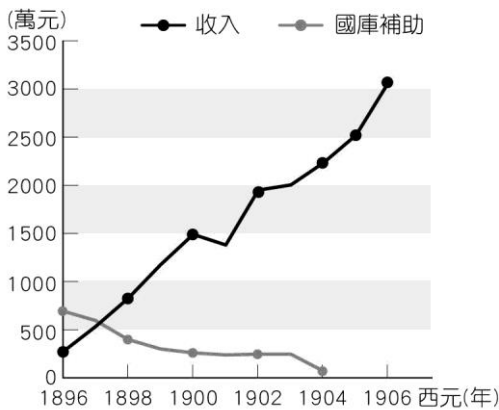
5. ( ) 以下是某位學者的研究報告摘要——

【甲】具有八項重要內涵：一、獨特之價值與規範，認同於成人卻又不同於成人及兒童。二、特殊之暗語。三、易受大眾傳播之影響。四、注意流行風尚。五、重視同儕歸屬。六、特定身分標準，不同於社會之標準。七、同儕支持，如「哥兒們」。八、滿足特殊需求，如犯罪或脫序次文化。而其表現則顯現於語言、服裝、舞蹈、音樂、髮型、吸菸、藥物、性關係等各方面的表象。

根據內容判斷，該學者所說的【甲】，最有可能是下列何者？ (A)儒家文化 (B)原住民文化 (C)成人次文化 (D)青少年次文化。

《答案》D

6. ( ) 下圖為日本統治臺灣後，財政收支的變化。從圖中可見，原先臺灣的支出是大於收入的，於是總督府透過多項政策來增加財政收入。請問：下列哪個政策最相關？ (A)專賣制度 (B)設立郵局 (C)統一度量衡 (D)與建水利工程。



《答案》A

詳解：(B)、(C)統一度量衡與政府財政收入無直接相關，(D)水利工程需先投資興建，才能期待後續獲

利，故選(A)。

7. ( ) 臺灣過度強調產業的發展，雖得到成長的經濟，但也產生許多後遺症。為避免環境繼續惡化，下列何者是進一步落實永續發展的方法？ (A)加強外銷增進國力 (B)維護土地的生態環境 (C)建設更高度的生產環境 (D)產業與人口積極外移。

《答案》B

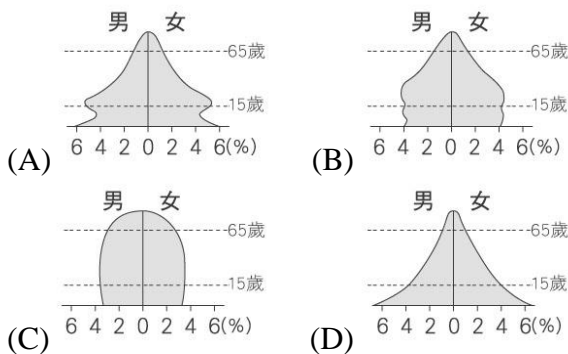
8. ( ) 西元 1915 年，總督府將參與抗日事件的民眾判處死刑，20 名抗日義士在刑場上均表現出從容赴死的氣魄，使現場的日本官員為之動容。請問：關於此抗日事件的敘述，下列何者正確？ (A)此事件的發生地主要在花東地區 (B)此事件是由余清芳所領導 (C)領導者以「反清復明」為號召，率領民眾起事 (D)此事件結束後，促使總督府檢討原住民政策。

《答案》B

9. ( ) 亞洲某些社會中，男、女人口數量有明顯差異，如中國、印度等。請問：造成這些國家的男性人口多於女性的可能原因為何？ (A)遺傳基因決定了男多女少 (B)女嬰體質差較易夭折 (C)氣候條件較利於男嬰發育 (D)受重男輕女觀念的影響。

《答案》D

10. ( ) 某雜誌中提到：「不將老年照護的責任託付於家庭或親人，而是歸屬於『國家』。在這裡，很少看到『三代同堂』的景象，老人們也不願意搬去與子女同住，他們多半喜歡保持獨立和自主，就算傷病殘者需要幫助，多半也是依賴國家提供的照護服務，他們認為這是生命的尊嚴，國家在長期照顧中扮演不可或缺的重要角色。」上述介紹主要是因應該國對某種人口問題所制定長期照護政策。請問：該國的人口金字塔圖最可能呈現下列哪一種形狀？



《答案》C

詳解：文中可知，該國因應的人口問題主要是老年化的人口結構，所以最可能是(C)。

11. ( ) 「類似日本人氣動漫《灌籃高手》裡赤木晴子向櫻木花道揮手的平交道，碧海藍天配上筆直大道感覺像是直通太平洋，還有能最早見到日出的火車站，每年都吸引許多觀光客前往朝聖。」請問：此一景點最有可能位於下列哪一個縣市？ (A)臺中市 (B)臺南市 (C)屏東縣 (D)臺東縣。

《答案》D

12. ( ) 在公有停車場與路邊停車格中，都可以看到藍色線條規畫的身心障礙者停車格，多數民眾不會任意占用該停車格停車。上述舉動展現出何種現代公民德性？ (A)相互尊重 (B)捍衛正義 (C)區隔特殊族群 (D)參與公共事務。

《答案》B

13. ( ) 臺灣在民國七十年代工資上漲快速，加上環保團體的抗爭，因此到了民國八十年代，部分傳統產業紛紛將工廠外移。請問：當時這些產業選擇設廠的地點，以下列何者最為適合？ (A)甲 (B)乙 (C)丙 (D)丁。

地點	甲	乙	丙	丁
人口密度 (人/km <sup>2</sup> )	335	30	224	410
人口總數 (萬人)	125	3,250	1,542	68
國民所得 (美金)	16,980	33,000	5,300	46,367

《答案》C

詳解：丙地國民所得最低，工資最低，傳統產業工廠適合在此設廠，降低成本。

14. ( ) 客家委員會成立後，對客家文化的推展不遺餘力，除了設立客家電視臺、舉辦客語認證體制，並利用電視播放客語廣告，增加一般民眾對客家文化的親切感。上述做法有助於下列何種理念的推展？ (A) 建立單一文化 (B) 保存傳統文化 (C) 促進經濟發展 (D) 響應公益活動。

《答案》B

15. ( ) 一美再過三年就到了可以投票的年齡，屆時她就可以投票選出自己心目中的總統人選。請問：一美可以行使這樣的權利，是從哪位總統在任時的改革？ (A) 蔣中正 (B) 蔣經國 (C) 陳水扁 (D) 李登輝。

《答案》D

16. ( ) 政府推動「超集約養殖系統」，不僅使單位面積產量提高，用水量亦僅有傳統養殖方法的1/20，大幅減少必須經常大量換水的缺失，這種養殖法將可減緩臺灣西部何種環境問題的發生？ (A) 寒害 (B) 乾旱 (C) 土石流 (D) 地層下陷。

《答案》D

17. ( ) 現在的臺灣糖業公司前身為日治時期各個製糖株式會社。這些會社依據原料採取區域進行劃分，區域內設有製糖工廠負責榨蔗，直到民國五十年代以前，蔗糖仍是出口的大宗。下列有關臺灣的製糖工業的敘述，何者為非？ (A) 原料失重率(指原料加工成品的過程中，所損失的重量比例)大 (B) 產品以外銷為主 (C) 糖廠多分布在北部丘陵 (D) 運送甘蔗多依賴鐵路運輸。

《答案》C

18. ( ) 臺灣鐵路的分布不及公路普遍，主要原因為何？ (A) 適應地形能力較差 (B) 較適合短程運輸 (C) 速度較緩慢 (D) 載運量較小。

《答案》A

19. ( ) 國民政府治臺初期，物價飛漲，人民生活苦不堪言。而造成物價飆漲的主因為何？ (A) 爆發二二八事件，全臺急需民生物資 (B) 臺灣實施戒嚴，物資進出口遭到限制 (C) 為支援國共內戰，物資多運往中國大陸 (D) 第二次世界大戰爆發，物資採配給制度。

《答案》C

20. ( ) 新竹縣關西鎮舊名「鹹菜甕」，是過去山區經濟重要的交換中心，新竹地區南北交通和東西交通的匯集點，曾與新竹市區、竹東鎮並列新竹地區三大城鎮區。其中馬武督地區包含金山里和錦山里，該區原住民具有特殊的紋面文化，區域內的門牌地名保留了原住民「馬武督」的名稱和漢人「錦山」，形成原住民地名與漢人地名共存的特殊現象。請問：文中所說的原住民與漢民族分別是哪兩大族群？ (A) 賽德克族、閩南人 (B) 泰雅族、客家人 (C) 排灣族、客家人 (D) 阿美族、閩南人

《答案》B

詳解：文中之紋面文化與臺灣北部山區所分布的原住民族以泰雅族為主，而新竹內陸地區則多客家民族。

21. ( ) 臺灣光復後，實施多項土地改革，包括：(甲)三七五減租 (乙)耕者有其田 (丙)公地放領。如果依照推行時間順序排列，下列何者是正確的？ (A)甲丙乙 (B)乙甲丙 (C)丙甲乙 (D)丙乙甲。

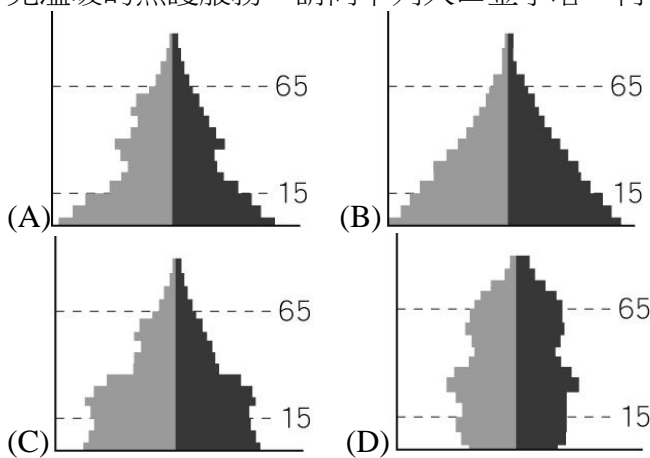
《答案》A

詳解：民國 38 年：三七五減租。民國 40 年：公地放領。民國 42 年：耕者有其田。

22. ( ) 來自臺灣各個原住民部落的年輕人，成立藝術表演團體「原舞者」，以重視傳統祭儀歌舞的風格，將田野採集的成果，用精緻的劇場形式來表現，呈現出原住民樂舞的力與美。根據內容判斷，上述「原舞者」的作為展現了下列何種意義？ (A)文化的交流 (B)文化傳承 (C)文化衝突 (D)青少年次文化。

《答案》B

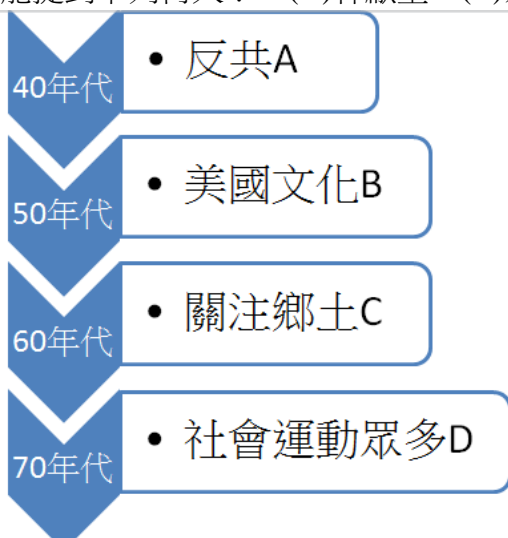
23. ( ) 《照護人，有您真好》是西元 2017 年以男性照護員為主角的電影，片中描述照護機構破除藩籬，融入社區與長輩生活模式。透過菜鳥照顧服務員與失智症奶奶的互動故事，讓更多人看見溫暖的照護服務。請問下列人口金字塔，何者最需要上述機構的設立？



《答案》D

詳解：(D)老年人口比例提高，造成壯年人口扶養負擔加重，最需要長期照護機構協助。

24. ( ) 小芳在上歷史課時，看到老師在黑板上畫上時間數線圖，以解釋臺灣從四十年代以來的社會與文化發展趨勢，如下圖所示。請問：老師在解釋從 C 階段演變成 D 階段的原因時，最有可能提到下列何人？ (A)林獻堂 (B)余清芳 (C)蔣經國 (D)郭懷一。



《答案》C

詳解：蔣經國總統於民國 76 年解除戒嚴，此後社會運動蓬勃發展。

25. ( ) 日本殖民統治時期，臺灣總督府推動了哪些與殖民經濟有關的措施？(甲)戶口調查，建立完整戶籍制度 (乙)調查臺灣土地與山林 (丙)放棄專賣制度 (丁)成立銀行，統一幣制 (A)甲乙丙 (B)甲乙丁 (C)乙丙丁 (D)甲乙丙丁。

《答案》B

26. ( ) 日治時期，臺灣總督府於西元 1905 年進行第一次臺灣臨時戶口調查。總計日本統治的五十年間，總共舉辦過七次戶口調查。請問：總督府進行戶口調查的主要目的為何？(A)有利人力資源的運用 (B)方便進行臺日的通婚 (C)有助日資開發山林地 (D)增加田地賦稅的收入。

《答案》A

27. ( ) 都市不斷向外擴張，使都市和鄰近大小市鎮緊密連成一體，稱為都會區。請問：以下哪一個地區尚未形成都會區？(A)臺北、基隆 (B)桃園、中壢 (C)臺中、彰化 (D)花蓮、臺東。

《答案》D

28. ( ) 科技部(原國科會)指出：「臺灣過去的寫照是賺得全世界，卻愈來愈走向『不永續』的境地。」請問：上文如果以養殖漁業而言，是指下列何種做法？(A)超抽地下水 (B)舉辦魚類料理競賽 (C)惡性削價競爭 (D)減少海魚的產量。

《答案》A

29. ( ) 附表是某年臺灣各國際商港出口貨物統計，其中丙港口最有可能為下列何者？(A)基隆港 (B)臺中港 (C)花蓮港 (D)高雄港。

出口貨物	精密儀器設備 (公噸)
甲港口	5,275
乙港口	8,923
丙港口	0
丁港口	5,639
總計	19,837

《答案》C

詳解：精密儀器設備屬於工業產品，丙港口出口量為 0，表示此一區域工業不發達，故可推測為臺灣東部的花蓮港。

30. ( ) 如如正在為阿公做口述歷史的訪問，阿公回憶民國四十年代時說道：「當年要不是政府政策的幫忙，像我們這種苦命的佃農，可能一輩子都翻不了身，只能看地主的臉色過日子了！」請問：他所說的政策是指下列何者？(A)九年國民教育 (B)耕者有其田 (C)十大建設 (D)全民健康保險。

《答案》B

31. ( ) 奶奶是(甲)虔誠的基督徒，一早就到教會參加聚會；我則忙著(乙)上線玩電腦；爸媽準備陪堂哥(丙)去提親，扮演好媒婆的角色；哥哥(丁)幫家裡裝了一盞新燈，使家中明亮許多。上述內容有哪些是屬於物質文化的內涵？(A)甲乙 (B)甲丁 (C)乙丙 (D)乙丁。

《答案》D

32. ( ) 為強化傳染病通報機制和掌握即時疫情變化，疾病管制署推動「防疫雲」系統，讓醫療院所將疫情通報資料直接透過電子病歷系統上傳，簡化疫病通報流程，更能即時掌握各傳染病的發生，爭取防疫時效，落實對民眾健康與醫療的照護。上述「建構法定傳染病通報系統」，主要在落實何種社會福利政策？(A)福利服務 (B)社會保險 (C)健康與醫療照護 (D)社會救助與津

貼。

《答案》C

33. ( ) 附表為四個地區的人口變化統計表。請問：哪一個地區的人口總數是逐年減少？ (A)甲 (B)乙 (C)丙 (D)丁。

年代	西元 1990~ 2000 年		西元 2000~ 2010 年		西元 2010~ 2020 年	
	自然 增加 率	社會 增加 率	自然 增加 率	社會 增加 率	自然 增加 率	社會 增加 率
甲	3.2	-0.2	2.8	-0.4	1.9	-0.7
乙	5	-2	5.2	-2.2	5.4	-2.4
丙	1.7	-2.2	2.2	-2.4	1.9	-2
丁	4	1.2	3.6	1.6	3.2	1.9

單位：‰

《答案》C

詳解：人口成長率為自然增加率加上社會增加率，若總和為正數為人口正成長，數字愈大則成長人口愈多，數字愈小則成長人口愈少；反之，若總和為負數則為人口負成長，數字愈大則人口流失愈多，數字愈小則人口流失愈少。甲：人口成長率的變化為 3‰→2.4‰→1.2‰，均為正數，表示每年人口均增加，只是每年成長人口逐漸減少。乙：人口成長率的變化由 3‰→3‰→3‰，每年人口穩定向上成長。丙：人口成長率的變化由-0.5‰→-0.2‰→-0.1‰，均為負數，表示每年人口均呈現負成長，且逐漸趨緩。丁：人口成長率的變化由 5.2‰→5.2‰→5.1‰，表示每年人口均增加。

34. ( ) 國民政府遷臺時，曾經實施戒嚴，其最主要的目的為何？ (A)在臺灣實行經濟封鎖 (B)為了防止共產思想滲透 (C)實行民主統治 (D)跟隨當時世界上的政治潮流。

《答案》B

35. ( ) 小齊的爺爺是隨著政府撤退來臺的老兵，一直很想回家鄉看看，但受限於兩岸的政治局勢始終無法成行。他跟小齊說：「爺爺後來有回去看看，那時候你還小呢。是因為政府……所以才能回去看看。但是，家鄉變好多，認不太出來了。」請問：小齊爺爺的「……」應該是下列何者？ (A)政府宣布實施戒嚴 (B)政府終止動員戡亂 (C)政府開放兩岸三通 (D)政府開放赴陸探親。

《答案》D

詳解：民國 76 年臺灣解嚴後，才開放國人赴陸探親。

36. ( ) 臺南的大雄想到夏威夷去度假，他先坐著電氣化的火車到桃園後，再從桃園國際機場坐飛機出國。請問：鐵路電氣化和國際機場都是在政府的哪項建設中完成的？ (A)林野調查 (B)十大建設 (C)十二項建設 (D)土地改革。

《答案》B

37. ( ) 國民政府播遷臺灣後，中共仍不時覬覦臺灣，但因哪一場戰爭爆發而使得中共擱置此一計畫，轉而與美國進行軍事對抗？ (A)八二三炮戰 (B)古寧頭戰役 (C)韓戰 (D)國共內戰。

《答案》C

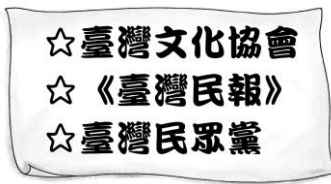
38. ( ) 「臺灣的人口密度約 650 人／平方公里，而美國的人口密度約 35 人／平方公里。」根據以上敘述，下列推論何者正確？ (A)臺灣的工商業比較發達 (B)美國的經濟高度發展 (C)臺灣的出生率較高 (D)美國平均居住與活動的空間較寬闊。

《答案》D

39. ( ) 阿海的祖父是日治時期臺灣的知識分子，他可能會經歷以下哪件事？ (A)選舉縣市長 (B)加入臺灣民眾黨 (C)到衙門申冤 (D)鼓勵女子纏小腳。

《答案》 B

40. ( ) 附圖中的組織都是深刻影響臺灣的重要團體。從圖中內容判斷，這應是下列何人的成就？  
(A)林爽文 (B)劉銘傳 (C)陳永華 (D)蔣渭水。



《答案》 D