

一、請依照國土形狀來判斷國家名稱

- (A)請問圖 1 為哪個國家？
(A)越南 (B)泰國 (C)緬甸 (D)寮國。
- (B)請問圖 2 為哪個國家？
(A)愛爾蘭 (B)英國 (C)瑞典 (D)西班牙。
- (C)請問圖 3 為哪個國家？
(A)菲律賓 (B)印尼 (C)澳大利亞 (D)義大利。
- (B)請問圖 4 為哪個國家？
(A)愛爾蘭 (B)印尼 (C)澳洲 (D)紐西蘭。
- (A)請問圖 5 為哪個國家？
(A)義大利 (B)法國 (C)波蘭 (D)德國。

圖 1



圖 2



圖 3



圖 4



圖 5



二、請根據下面國旗內容來判斷所屬國家

- (C)請問圖 6 為哪個國家？
(A)秘魯 (B)巴西 (C)菲律賓 (D)墨西哥。
- (D)請問圖 7 為哪個國家？
(A)中國 (B)印尼 (C)加拿大 (D)土耳其。
- (B)請問圖 8 為哪個國家？
(A)澳洲 (B)墨西哥 (C)英國 (D)法國。
- (C)請問圖 9 為哪個國家？
(A)智利 (B)厄瓜多 (C)紐西蘭 (D)阿根廷。
- (D)請問圖 10 為哪個國家？
(A)克羅埃西亞 (B)保加利亞
(C)羅馬尼亞 (D)巴西

圖 6



圖 7





圖 8



圖 9




圖 10



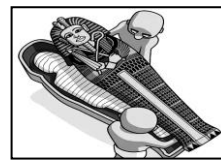
三、請依照提示來判斷其形容的國家

- (D)根據提示，此為哪個國家？
(A)西班牙 (B)英國 (C)法國 (D)埃及。

提示 1




提示 2

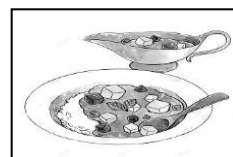


- (A)根據提示，此為哪個國家？
(A)印度 (B)荷蘭 (C)德國 (D)瑞士。

提示 1



提示 2



- (B)13.根據提示，此為哪個國家？
(A)越南 (B)義大利 (C)緬甸 (D)印尼。

提示 1



提示 2

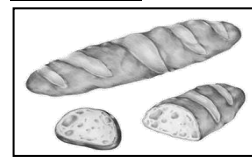


- (C)根據提示，此為哪個國家？
(A)日本 (B)中國 (C)法國 (D)新加坡。

提示 1




提示 2



- (B)根據提示，此為哪個國家？
(A)法國 (B)澳大利亞 (C)義大利 (D)日本。

提示 1



提示 2



四、請根據首都名稱來判斷其所屬國家

- (A)首都：馬尼拉→國家為？
(A)菲律賓 (B)美國 (C)愛爾蘭 (D)芬蘭。
- (C)首都：柏林→國家為？
(A)比利時 (B)奧地利 (C)德國 (D)葡萄牙。
- (A)首都：阿姆斯特丹→國家為？
(A)荷蘭 (B)沙烏地阿拉伯 (C)伊朗 (D)印尼。
- (B)首都：平壤→國家為？
(A)蒙古 (B)北韓 (C)哈薩克 (D)吉爾吉斯。
- (D)20.首都：莫斯科→國家為？
(A)伊朗 (B)土耳其 (C)以色列 (D)俄羅斯。