




單一選擇題

- (C) 請問下列哪一個是太平區的區徽？
 (A)  (B)  (C)  (D)
- (B) 關於電子地圖 google map 的使用內容，請問下列何者錯誤？
 (A) 可以計算兩地的距離
 (B) 街景圖可以即時更換
 (C) 可規畫出兩地之間的行走路線
 (D) 可呈現能搭乘的交通工具。
- (D) 請問哪一個不是臺中市所管轄的行政區？
 (A) 和平區 (B) 霧峰區
 (C) 大安區 (D) 三民區。
- (D) 請問臺灣四座北回歸線紀念碑，不在哪一個縣市？
 (A) 花蓮縣 (B) 嘉義縣
 (C) 澎湖縣 (D) 彰化縣。
- (B) 太平區面積約 120.7 平方公里，請問其面積為台中市第幾大轄區？
 (A) 第一 (B) 第二
 (C) 第三 (D) 第四。
- (B) 請問下列哪一個 24 節氣，是夏天的節氣？
 (A) 穀雨 (B) 芒種
 (C) 處暑 (D) 白露。
- (A) 若今天是 2 月 3 日，請問這天最接近 24 節氣中的哪一個？
 (A) 立春 (B) 驚蟄
 (C) 小寒 (D) 霜降。
- (B) 當位於南半球的「澳洲」是冬天的時候，位於北半球的「台灣」應該是什麼季節呢？
 (A) 春 (B) 夏
 (C) 秋 (D) 冬。
- (B) 請問下哪一座山是太平區最高的山？
 (A) 冬瓜山 (B) 大橫屏山
 (C) 三汀山 (D) 車籠山。
- (A) 請問下列哪一條斷層與 921 地震有關？
 (A) 車籠埔斷層 (B) 山腳斷層
 (C) 梅山斷層 (D) 利吉斷層。
- (D) 請問下列哪一條河川不位在太平區境內？
 (A) 頭汴坑溪 (B) 廊子溪
 (C) 旱溪 (D) 陳有蘭溪。
- (C) 請問哪一句諺語是形容春季時天氣的善變？
 (A) 竹風蘭雨 (B) 春濛曝死鬼，夏濛做大水
 (C) 春天後母面 (D) 清明時節雨紛紛。
- (D) 請問下列哪一條河川不位在臺中市境內？
 (A) 大甲溪 (B) 大肚溪
 (C) 大安溪 (D) 濁水溪。
- (A) 請問離長億高中最近的是哪一條河川呢？
 (A) 頭汴坑溪 (B) 廊子溪
 (C) 旱溪 (D) 大坑溪。
- (A) 根據臺灣用水結構，請問臺灣降水後大部分的水源到哪去了？
 (A) 流入海洋 (B) 蒸發到空中
 (C) 流入水庫 (D) 提供民生用水。
- (D) 請問哪一個不是太平區所管轄的行政區？
 (A) 興隆里 (B) 永成里
 (C) 坪林里 (D) 仁化里。
- (B) 請問下列哪一個是省水標章的標誌？
 (A)  (B)  (C)  (D)
- (C) 請問長億高中是位在哪條路呢？
 (A) 長億二街 (B) 長億四街
 (C) 長億六街 (D) 長億八街。
- (C) 請問 24 節氣中哪一天是南北兩半球晝夜相等，大部分地區越冬作物進入春季生長階段？
 (A) 夏至 (B) 立春
 (C) 春分 (D) 清明。
- (B) 太平區全區約 80% 的面積為山地丘陵區域，請問其地勢大致如何呈現？
 (A) 南高北低 (B) 東高西低
 (C) 北高南低 (D) 東低西高。