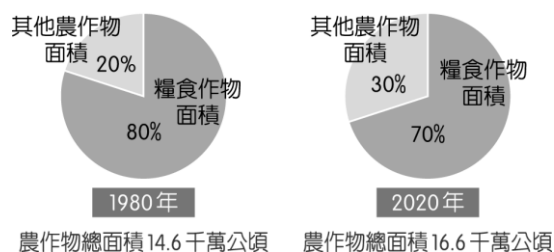
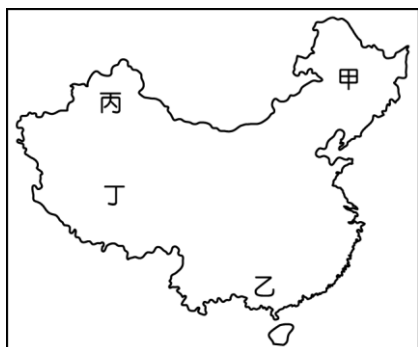


一、單題（每題 5 分，共 100 分）

1. () 中國南部地區常可見到騎樓或高腳屋，形成當地的聚落特色。這種建築分布和該地區何種氣候現象的關係最大？
(A) 年均溫高 (B) 多雨潮溼 (C) 風向多變 (D) 日照較長。
2. () 近年來中國企業逐漸在全球經貿中扮演重要的角色，並積極併購的方式取得所有權，如瑞典的汽車公司、美國的個人電腦等品牌。請問：中國企業採用上述方式，其主要目的為下列何者？
(A) 擴展國家領土範圍 (B) 減緩國內勞力短缺 (C) 獲取產業生產技術 (D) 國內區域均衡發展。
3. () 李老師到中國某都市進行學術交流，他發現當地冬季嚴寒，最冷月均溫低於 0°C ；且降水分布呈現乾溼分明的情況，年降水量介於 $500\sim 750\text{mm}$ 之間。請問：該都市應屬於下列哪一種氣候類型？
(A) 熱帶季風氣候 (B) 高地氣候 (C) 乾燥氣候 (D) 溫帶季風氣候。
4. () 今日中國對世界經濟發展的影響相當大，其中的原因之一為中國的潛在市場廣大。請問：下列哪一項特性和中國市場廣大的關係最密切？
(A) 面積廣闊 (B) 面海背陸 (C) 人口眾多 (D) 資源豐富。
5. () 中國糧食作物種植面積的比例變化如附圖所示。請問：造成比例變化的最主要原因為下列何者？



- (A) 市場需求 (B) 氣候變遷 (C) 產量減少 (D) 國外進口。
6. () 中國龐大的消費能力，使阿里巴巴、淘寶等網路購物平臺在中國蓬勃發展，這是何種交易活動的興起？
(A) 批發 (B) 零售 (C) 量販店 (D) 電子商務。
7. () 中國降水具有空間上分布不均的現象，年降水量最多的地區，最可能出現在附圖中的哪一個地點？




- (A) 甲 (B) 乙 (C) 丙 (D) 丁。
8. () 根據附圖中國一帶一路路線圖，一帶一路包含的

區域並未包括哪一洲？



- (A) 亞洲 (B) 歐洲 (C) 非洲 (D) 北美洲。
9. () 近年來中國持續進行經濟改革開放政策，如果某臺商想到中國東南沿海的經濟特區設置紡織工廠，其考慮的主要區位條件最可能為何？
(A) 原料 (B) 動力 (C) 勞工 (D) 能源。
10. () 南韓自二次大戰後經濟快速成長，其中十大企業的營收占國內生產毛額的 43%。有關於南韓經濟發展的敘述，下列何者正確？
(A) 大型財團主導國內經濟 (B) 中小企業為出口主力 (C) 電子業的出口產值最高 (D) 大型企業的薪資較高。
11. () 南韓隊到臺灣來參加國際比賽時，總是會攜帶具有家鄉味的食物，尤其是泡菜更是不可缺少。請問：南韓當地盛行食用該食物的主要原因為何？
(A) 土壤貧瘠 (B) 氣候嚴寒 (C) 降水量少 (D) 地形崎嶇。
12. () 日本的主要工業區多分布於交通便利地區，其中以何種交通方式發達地區為主？
(A) 空運 (B) 陸運 (C) 海運 (D) 河運。
13. () 日本具備了良好的治安、貼心的服務、整潔的環境等特性，成為許多臺灣人喜愛帶小孩去旅行的國家。若要前往日本秋葉原購買當地市場銷售主力且附加價值較高的玩具，下列何者最為適合？



14. () 東周時代，秦國任用何人變法，推行法治，獎勵軍功，以法治取信天下，使得秦國成為當時最強大的國家？
(A) 嬴政 (B) 商鞅 (C) 張騫 (D) 玄奘。
15. () 認為自己的功勞高過三皇和五帝，確立中國皇帝制度的是何人？
(A) 唐太宗 (B) 秦始皇 (C) 北魏孝文帝 (D) 漢武帝。

16. () 下列為唐代的文化潮流資料，這可以說明唐代哪種現象？

資料一：西域各國所特有的音樂、技藝源源不絕地傳入中國。甚至朝廷正式典禮所用的音樂也以胡樂為主。民間與宮廷流行的休閒娛樂有擊鞠、繩技、胡旋舞等。

資料二：唐代與域外的文化交流，可從當時的長安及洛陽城內人們的生活看出，他們崇尚西域的風氣，如服飾裝束方面以西域各國的裝飾為美，崇外成為當時的潮流。

- (A) 強迫西域諸國接受唐代文化 (B) 唐代將西域納入儒家文化圈 (C) 官方以武力推動西方文化的傳布 (D) 因容納各種文化而呈現多元色彩。
17. () 「中央政府派要員到地方選才，按才能分別評定人才等級，按等選用。後來選才竟以家世為重，即使平庸之輩，卻因出身名門，乃評為『上』等，造成貴族壟斷官職的局面。」以上敘述是中國哪一種選才任官制度？
- (A) 世襲官制 (B) 孝廉推舉 (C) 九品官人之法 (D) 科舉考試。
18. () 中國在這個朝代對外族有種種優待，譬如設置市舶司，專門處理外商貿易之事。請問：這是哪一個朝代的情景？
- (A) 秦代 (B) 漢代 (C) 隋代 (D) 唐代。
19. () 宋真宗之後，北宋與遼維持一百多年的和平，是因為下列何者？
- (A) 北宋依盟約支付歲幣給遼國 (B) 北宋打仗屢戰屢勝 (C) 宋真宗獲得「天可汗」稱號 (D) 北宋與遼建立不對等關係。
20. () 附圖為中國歷史上某位皇帝的功績，雖然他建樹頗多，但卻也因濫用民力，加上嚴刑峻法，使人民心生怨恨。加上他的繼任者又昏庸暴虐，而導致亡國。請問：上述是指哪一位歷史人物？



- (A) 唐太宗 (B) 秦始皇 (C) 漢武帝 (D) 北魏孝文帝。